



**Федеральное агентство морского и речного транспорта
Федеральное государственное бюджетное образовательное учреждение
высшего образования
«Государственный университет морского и речного флота
имени адмирала С.О. Макарова»
Беломорско-Онежский филиал**

**КОМПЛЕКТ КОНТРОЛЬНО-ОЦЕНОЧНЫХ СРЕДСТВ
ПО ОБЩЕОБРАЗОВАТЕЛЬНОМУ
УЧЕБНОМУ ПРЕДМЕТУ**

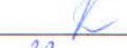
**ПУП. 01 МАТЕМАТИКА
(общеобразовательная подготовка, технологический профиль)**

**ПРОГРАММЫ ПОДГОТОВКИ СПЕЦИАЛИСТОВ СРЕДНЕГО ЗВЕНА
по специальности
26.02.03 СУДОВОЖДЕНИЕ**


**квалификация
СТАРШИЙ ТЕХНИК-СУДОВОДИТЕЛЬ С ПРАВОМ ЭКСПЛУАТАЦИИ
СУДОВЫХ ЭНЕРГЕТИЧЕСКИХ УСТАНОВОК**


**ПЕТРОЗАВОДСК
2023**

СОГЛАСОВАНО
Заместитель директора по УМиВР
БОФ ГУМРФ


Л.М.Каторина
23 08 20 23

УТВЕРЖДАЮ
Директор БОФ ГУМРФ


А.В. Васильев
20 08 20 23

ОДОБРЕНА
на заседании цикловой комиссии
общеобразовательных и ЕН дисциплин
Протокол от 20.06.2023 № 6
Председатель  С.Г. Хлебникова

РАЗРАБОТЧИКИ:

Боровская Мария Владимировна – преподаватель математики и информатики, председатель цикловой комиссии общих гуманитарных и социально-экономических дисциплин Беломорско-Онежского филиала,

Березина Светлана Владимировна, преподаватель Беломорско-Онежского филиала,

Хлебникова Светлана Геннадьевна, преподаватель Беломорско-Онежского филиала, председатель цикловой комиссии общеобразовательных и естественнонаучных дисциплин Беломорско-Онежского филиала.

Комплект контрольно-оценочных средств по учебному предмету ПУП.01 Математика разработан в соответствии с Федеральным государственным образовательным стандартом СОО, утвержденным Приказом Министерства образования и науки Российской Федерации от 17.05.2012 № 413 с изменениями и дополнениями, Федеральным государственным образовательным стандартом среднего профессионального образования, утвержденным приказом Министерства просвещения Российской Федерации от 17.05.2012 № 413 с изменениями и дополнениями, по специальности 26.02.03 Судовождение, рабочей программой учебного предмета.

СОДЕРЖАНИЕ

| | |
|---|-----------|
| 1. ПАСПОРТ КОМПЛЕКТА КОНТРОЛЬНО-ОЦЕНОЧНЫХ СРЕДСТВ | 4 |
| 2. КОДИФИКАТОР ОЦЕНОЧНЫХ СРЕДСТВ | 19 |
| 3. СИСТЕМА ОЦЕНКИ ОБРАЗОВАТЕЛЬНЫХ ДОСТИЖЕНИЙ ОБУЧАЮЩИХСЯ ПО КАЖДОМУ ОЦЕНОЧНОМУ СРЕДСТВУ | 25 |
| 4. БАНК КОМПЕТЕНТНОСТНО-ОЦЕНОЧНЫХ МАТЕРИАЛОВ ДЛЯ ОЦЕНКИ УСВОЕНИЯ РАБОЧЕЙ ПРОГРАММЫ УЧЕБНОГО ПРЕДМЕТА | 28 |

**1. ПАСПОРТ КОМПЛЕКТА КОНТРОЛЬНО-ОЦЕНОЧНЫХ СРЕДСТВ
ПО УЧЕБНОМУ ПРЕДМЕТУ
ПУП. 01 МАТЕМАТИКА**

1.1. Область применения контрольно-оценочных средств

Контрольно-оценочные средства (КОС) являются частью нормативно-методического обеспечения системы оценивания качества освоения обучающимися программы подготовки специалистов среднего звена по специальности 26.02.03 Судовождение и обеспечивают повышение качества образовательного процесса.

КОС по учебному предмету представляет собой совокупность контролирующих материалов, предназначенных для измерения уровня достижения обучающимся установленных результатов обучения.

КОС по учебному предмету используется при проведении текущего контроля успеваемости и промежуточной аттестации обучающихся в виде экзамена.

1.2. Результаты освоения учебной предмета, подлежащие проверке

| Код и наименование формируемых компетенций | Планируемые результаты обучения | |
|---|---|---|
| | Общие (личностные, метапредметные) | Предметные |
| ОК 01 Выбирать способы решения задач профессиональной деятельности применительно к различным контекстам | <p>- готовность к труду, осознание ценности мастерства, трудолюбие;</p> <p>- готовность к активной деятельности технологической и социальной направленности, способность инициировать, планировать и самостоятельно выполнять такую деятельность;</p> <p>- интерес к различным сферам профессиональной деятельности.</p> <p>Овладение универсальными учебными познавательными действиями:</p> <p>а) базовые логические действия:</p> <p>- самостоятельно формулировать и актуализировать проблему, рассматривать её всесторонне;</p> <p>- устанавливать существенный признак или основания для сравнения, классификации и обобщения;</p> <p>- определять цели деятельности, задавать параметры и критерии их достижения;</p> <p>- выявлять закономерности и противоречия в рассматриваемых явлениях;</p> <p>- вносить коррективы в деятельность, оценивать соответствие результатов целям, оценивать риски последствий деятельности;</p> <p>- развивать креативное мышление при решении жизненных проблем</p> <p>б) базовые исследовательские действия:</p> <p>- владеть навыками учебно-исследовательской и проектной деятельности, навыками разрешения проблем;</p> | <p>- владеть методами доказательств, алгоритмами решения задач; умение формулировать определения, аксиомы и теоремы, применять их, проводить доказательные рассуждения в ходе решения задач;</p> <p>- уметь оперировать понятиями: степень числа, логарифм числа; умение выполнять вычисление значений и преобразования выражений со степенями и логарифмами, преобразования дробно-рациональных выражений;</p> <p>- уметь оперировать понятиями: рациональные, иррациональные, показательные, степенные, логарифмические, тригонометрические уравнения и неравенства, их системы;</p> <p>- уметь оперировать понятиями: функция, непрерывная функция, производная, первообразная, определённый интеграл; уметь находить производные элементарных функций, используя справочные материалы; исследовать в простейших случаях функции на монотонность, находить наибольшие и наименьшие значения функций; строить графики многочленов с использованием аппарата математического анализа; применять производную при решении задач на движение; решать практико-ориентированные задачи на наибольшие и наименьшие значения, нахождение пути, скорости и ускорения;</p> <p>- уметь оперировать понятиями: рациональная функция, показательная функция, степенная функция, логарифмическая функция, тригонометрические функции, обратные функции;</p> <p>умение строить графики изученных функций, использовать графики при изучении процессов и зависимостей, при решении задач из других учебных предметов и задач из реальной жизни; выразить формулами зависимости между величинами;</p> <p>- уметь решать текстовые задачи разных типов (в том числе на про-</p> |

| | | |
|--|--|--|
| | <ul style="list-style-type: none"> - выявлять причинно-следственные связи и актуализировать задачу, выдвигать гипотезу ее решения, находить аргументы для доказательства своих утверждений, задавать параметры и критерии решения; - анализировать полученные в ходе решения задачи результаты, критически оценивать их достоверность, прогнозировать изменение в новых условиях; -- уметь переносить знания в познавательную и практическую области жизнедеятельности; - уметь интегрировать знания из разных предметных областей; - выдвигать новые идеи, предлагать оригинальные подходы и решения; <p>и способность их использования в познавательной и социальной практике</p> | <p>центры, доли и части, на движение, работу, стоимость товаров и услуг, налоги, задачи из области управления личными и семейными финансами); составлять выражения, уравнения, неравенства и их системы по условию задачи, исследовать полученное решение и оценивать правдоподобность результатов;</p> <ul style="list-style-type: none"> - уметь оперировать понятиями: среднее арифметическое, медиана, наибольшее и наименьшее значения, размах, дисперсия, стандартное отклонение числового набора; умение извлекать, интерпретировать информацию, представленную в таблицах, на диаграммах, графиках, отражающую свойства реальных процессов и явлений; представлять информацию с помощью таблиц и диаграмм; исследовать статистические данные, в том числе с применением графических методов и электронных средств; - уметь оперировать понятиями: случайный опыт и случайное событие, вероятность случайного события; умение вычислять вероятность с использованием графических методов; применять формулы сложения и умножения вероятностей, комбинаторные факты и формулы при решении задач; оценивать вероятности реальных событий; знакомство со случайными величинами; умение приводить примеры проявления закона больших чисел в природных и общественных явлениях; - уметь оперировать понятиями: точка, прямая, плоскость, пространство, двугранный угол, скрещивающиеся прямые, параллельность и перпендикулярность прямых и плоскостей, угол между прямыми, угол между прямой и плоскостью, угол между плоскостями, расстояние от точки до плоскости, расстояние между прямыми, расстояние между плоскостями; умение использовать при решении задач изученные факты и теоремы планиметрии; умение оценивать размеры объектов окружающего мира; - уметь оперировать понятиями: многогранник, сечение многогранника, куб, параллелепипед, призма, пирамида, фигура и поверхность вращения, цилиндр, конус, шар, сфера, сечения фигуры вращения, плоскость, касающаяся сферы, цилиндра, конуса, площадь поверх- |
|--|--|--|

| | | |
|--|--|---|
| | | <p>ности пирамиды, призмы, конуса, цилиндра, площадь сферы, объем куба, прямоугольного параллелепипеда, пирамиды, призмы, цилиндра, конуса, шара; умение изображать многогранники и поверхности вращения, их сечения от руки, с помощью чертежных инструментов и электронных средств; умение распознавать симметрию в пространстве; умение распознавать правильные многогранники;</p> <ul style="list-style-type: none">- уметь оперировать понятиями: движение в пространстве, подобные фигуры в пространстве; использовать отношение площадей поверхностей и объемов подобных фигур при решении задач;- уметь вычислять геометрические величины (длина, угол, площадь, объем, площадь поверхности), используя изученные формулы и методы;- уметь оперировать понятиями: прямоугольная система координат, координаты точки, вектор, координаты вектора, скалярное произведение, угол между векторами, сумма векторов, произведение вектора на число; находить с помощью изученных формул координаты середины отрезка, расстояние между двумя точками;- уметь выбирать подходящий изученный метод для решения задачи, распознавать математические факты и математические модели в природных и общественных явлениях, в искусстве; умение приводить примеры математических открытий российской и мировой математической науки;- уметь оперировать понятиями: определение, аксиома, теорема, следствие, свойство, признак, доказательство, равносильные формулировки; умение формулировать обратное и противоположное утверждение, приводить примеры и контрпримеры, использовать метод математической индукции; проводить доказательные рассуждения при решении задач, оценивать логическую правильность рассуждений;- уметь оперировать понятиями: множество, подмножество, операции над множествами; умение использовать теоретикомножественный аппарат для описания реальных процессов и явлений при решении задач, в том числе из других учебных предметов; |
|--|--|---|

| | | |
|--|--|---|
| | | <ul style="list-style-type: none">- уметь оперировать понятиями: граф, связный граф, дерево, цикл, граф на плоскости; умение задавать и описывать графы различными способами; использовать графы при решении задач;- уметь свободно оперировать понятиями: сочетание, перестановка, число сочетаний, число перестановок; бином Ньютона; умение применять комбинаторные факты и рассуждения для решения задач;- уметь оперировать понятиями: натуральное число, целое число, остаток по модулю, рациональное число, иррациональное число, множества натуральных, целых, рациональных, действительных чисел; умение использовать признаки делимости, наименьший общий делитель и наименьшее общее кратное, алгоритм Евклида при решении задач; знакомство с различными позиционными системами счисления;- уметь свободно оперировать понятиями: степень с целым показателем, корень натуральной степени, степень с рациональным показателем, степень с действительным (вещественным) показателем, логарифм числа, синус, косинус и тангенс произвольного числа;- уметь оперировать понятиями: тождество, тождественное преобразование, уравнение, неравенство, система уравнений и неравенств, равносильность уравнений, неравенств и систем, рациональные, иррациональные, показательные, степенные, логарифмические, тригонометрические уравнения, неравенства и системы; умение решать уравнения, неравенства и системы с помощью различных приемов; решать уравнения, неравенства и системы с параметром; применять уравнения, неравенства, их системы для решения математических задач и задач из различных областей науки и реальной жизни;- уметь свободно оперировать понятиями: график функции, обратная функция, композиция функций, линейная функция, квадратичная функция, степенная функция с целым показателем, тригонометрические функции, обратные тригонометрические функции, показательная и логарифмическая функции; умение строить графики |
|--|--|---|

| | | |
|--|--|---|
| | | <p>функций, выполнять преобразования графиков функций; умение использовать графики функций для изучения процессов и зависимостей при решении задач из других учебных предметов и из реальной жизни; выражать формулами зависимости между величинами; умение свободно оперировать понятиями: четность функции, периодичность функции, ограниченность функции, монотонность функции, экстремум функции, наибольшее и наименьшее значения функции на промежутке; умение проводить исследование функции; умение использовать свойства и графики функций для решения уравнений, неравенств и задач с параметрами; изображать на координатной плоскости множества решений уравнений, неравенств и их систем;</p> <ul style="list-style-type: none">- уметь свободно оперировать понятиями: последовательность, арифметическая прогрессия, геометрическая прогрессия, бесконечно убывающая геометрическая прогрессия; умение задавать последовательности, в том числе с помощью рекуррентных формул;- уметь оперировать понятиями: непрерывность функции, асимптоты графика функции, первая и вторая производная функции, геометрический и физический смысл производной, первообразная, определенный интеграл; умение находить асимптоты графика функции; умение вычислять производные суммы, произведения, частного и композиции функций, находить уравнение касательной к графику функции; умение использовать производную для исследования функций, для нахождения наилучшего решения в прикладных, в том числе социально-экономических и физических задачах, для определения скорости и ускорения; находить площади и объемы фигур с помощью интеграла; приводить примеры математического моделирования с помощью дифференциальных уравнений;- уметь оперировать понятиями: комплексное число, сопряженные комплексные числа, модуль и аргумент комплексного числа, форма записи комплексных чисел (геометрическая, тригонометрическая и алгебраическая); уметь производить арифметические действия с комплексными числами; приводить примеры использования ком- |
|--|--|---|

| | | |
|--|--|---|
| | | <p>плексных чисел;</p> <ul style="list-style-type: none">- уметь свободно оперировать понятиями: среднее арифметическое, медиана, наибольшее и наименьшее значения, размах, дисперсия, стандартное отклонение для описания числовых данных; умение исследовать статистические данные, в том числе с применением графических методов и электронных средств; графически исследовать совместные наблюдения с помощью диаграмм рассеивания и линейной регрессии;- уметь находить вероятности событий с использованием графических методов; применять для решения задач формулы сложения и умножения вероятностей, формулу полной вероятности, формулу Бернулли, комбинаторные факты и формулы; оценивать вероятности реальных событий; умение оперировать понятиями: случайная величина, распределение вероятностей, математическое ожидание, дисперсия и стандартное отклонение случайной величины, функции распределения и плотности равномерного, показательного и нормального распределений; умение использовать свойства изученных распределений для решения задач; знакомство с понятиями: закон больших чисел, методы выборочных исследований; умение приводить примеры проявления закона больших чисел в природных и общественных явлениях;- уметь свободно оперировать понятиями: точка, прямая, плоскость, пространство, отрезок, луч, плоский угол, двугранный угол, трехгранный угол, пересекающиеся, параллельные и скрещивающиеся прямые, параллельность и перпендикулярность прямых и плоскостей, угол между прямыми, угол между прямой и плоскостью, угол между плоскостями; умение использовать при решении задач изученные факты и теоремы планиметрии; умение оценивать размеры объектов в окружающем мире; умение оперировать понятиями: многогранник, сечение многогранника, правильный многогранник, призма, пирамида, фигура и поверхность вращения, цилиндр, конус, шар, сфера, развертка поверхности, сечения конуса и цилиндра, параллельные оси или основанию, сечение шара, плоскость, касающа- |
|--|--|---|

| | | |
|--|--|---|
| | | <p>яся сферы, цилиндра, конуса; умение строить сечение многогранника, изображать многогранники, фигуры и поверхности вращения, их сечения, в том числе с помощью электронных средств; умение применять свойства геометрических фигур, самостоятельно формулировать определения изучаемых фигур, выдвигать гипотезы о свойствах и признаках геометрических фигур, обосновывать или опровергать их; умение проводить классификацию фигур по различным признакам, выполнять необходимые дополнительные построения;</p> <ul style="list-style-type: none">- уметь свободно оперировать понятиями: площадь фигуры, объем фигуры, величина угла, расстояние от точки до плоскости, расстояние между прямыми, расстояние между плоскостями, площадь сферы, площадь поверхности пирамиды, призмы, конуса, цилиндра, объем куба, прямоугольного параллелепипеда, пирамиды, призмы, цилиндра, конуса, шара; умение находить отношение объемов подобных фигур;- уметь свободно оперировать понятиями: движение, параллельный перенос, симметрия на плоскости и в пространстве, поворот, преобразование подобия, подобные фигуры; умение распознавать равные и подобные фигуры, в том числе в природе, искусстве, архитектуре; умение использовать геометрические отношения, находить геометрические величины (длина, угол, площадь, объем) при решении задач из других учебных предметов и из реальной жизни;- уметь свободно оперировать понятиями: прямоугольная система координат, вектор, координаты точки, координаты вектора, сумма векторов, произведение вектора на число, разложение вектора по базису, скалярное произведение, векторное произведение, угол между векторами; умение использовать векторный и координатный метод для решения геометрических задач и задач других учебных предметов; оперировать понятиями: матрица 2×2 и 3×3, определитель матрицы, геометрический смысл определителя;- уметь моделировать реальные ситуации на языке математики; составлять выражения, уравнения, неравенства и их системы по условию задачи, исследовать построенные модели с использованием ап- |
|--|--|---|

| | | |
|--|---|--|
| | | <p>парата алгебры, интерпретировать полученный результат; строить математические модели с помощью геометрических понятий и величин, решать связанные с ними практические задачи; составлять вероятностную модель и интерпретировать полученный результат; решать прикладные задачи средствами математического анализа, в том числе социальноэкономического и физического характера;</p> <p>- умение выбирать подходящий метод для решения задачи; понимание значимости математики в изучении природных и общественных процессов и явлений; умение распознавать проявление законов математики в искусстве, умение приводить примеры математических открытий российской и мировой математической науки</p> |
| <p>ОК 02 Использовать современные средства поиска, анализа и интерпретации информации и информационные технологии для выполнения задач профессиональной деятельности</p> | <p>В области ценности научного познания:</p> <p>-сформированность мировоззрения, соответствующего современному уровню развития науки и общественной практики, основанного на диалоге культур, способствующего осознанию своего места в поликультурном мире;</p> <p>- совершенствование языковой и читательской культуры как средства взаимодействия между людьми и познания мира;</p> <p>- осознание ценности научной деятельности, готовность осуществлять проектную и исследовательскую деятельность индивидуально и в группе.</p> <p>Овладение универсальными учебными познавательными действиями:</p> <p>в) работа с информацией:</p> <p>- владеть навыками получения информации из источников разных типов, самостоятельно осуществлять поиск, анализ, систематизацию и интерпретацию информации различных видов и форм представления;</p> <p>- создавать тексты в различных форматах с уче-</p> | <p>- уметь оперировать понятиями: рациональная функция, показательная функция, степенная функция, логарифмическая функция, тригонометрические функции, обратные функции умение строить графики изученных функций, использовать графики при изучении процессов и зависимостей, при решении задач из других учебных предметов и задач из реальной жизни; выражать формулами зависимости между величинами;</p> <p>- уметь оперировать понятиями: тождество, тождественное преобразование, уравнение, неравенство, система уравнений и неравенств, равносильность уравнений, неравенств и систем, рациональные, иррациональные, показательные, степенные, логарифмические, тригонометрические уравнения, неравенства и системы; уметь решать уравнения, неравенства и системы с помощью различных приемов; решать уравнения, неравенства и системы с параметром; применять уравнения, неравенства, их системы для решения математических задач и задач из различных областей науки и реальной жизни;</p> <p>- уметь свободно оперировать понятиями: движение, параллельный перенос, симметрия на плоскости и в пространстве, поворот, преобразование подобия, подобные фигуры; уметь распознавать равные и подобные фигуры, в том числе в природе, искусстве, архитектуре; уметь использовать геометрические отношения, находить геомет-</p> |

| | | |
|--|--|---|
| | <p>том назначения информации и целевой аудиторской информации, выбирая оптимальную форму представления и визуализации;</p> <ul style="list-style-type: none"> - оценивать достоверность, легитимность информации, ее соответствие правовым и морально-этическим нормам; - использовать средства информационных и коммуникационных технологий в решении когнитивных, коммуникативных и организационных задач с соблюдением требований эргономики, техники безопасности, гигиены, ресурсосбережения, правовых и этических норм, норм информационной безопасности; - владеть навыками распознавания и защиты информации, информационной безопасности личности | <p>рические величины (длина, угол, площадь, объем) при решении задач из других учебных предметов и из реальной жизни</p> |
| <p>ОК 03 Планировать и реализовывать собственное профессиональное и личностное развитие, предпринимательскую деятельность в профессиональной сфере, использовать знания по финансовой грамотности в различных жизненных ситуа-</p> | <p>В области духовно-нравственного воспитания:</p> <ul style="list-style-type: none"> -- сформированность нравственного сознания, этического поведения; - способность оценивать ситуацию и принимать осознанные решения, ориентируясь на морально-нравственные нормы и ценности; - осознание личного вклада в построение устойчивого будущего; - ответственное отношение к своим родителям и (или) другим членам семьи, созданию семьи на основе осознанного принятия ценностей семейной жизни в соответствии с традициями народов России; <p>Овладение универсальными регулятивными действиями:</p> <p>а) самоорганизация:</p> <ul style="list-style-type: none"> - самостоятельно осуществлять познавательную | <ul style="list-style-type: none"> - уметь оперировать понятиями: рациональные, иррациональные, показательные, степенные, логарифмические, тригонометрические уравнения и неравенства, их системы; - уметь оперировать понятиями: многогранник, сечение многогранника, куб, параллелепипед, призма, пирамида, фигура и поверхность вращения, цилиндр, конус, шар, сфера, сечения фигуры вращения, плоскость, касающаяся сферы, цилиндра, конуса, площадь поверхности пирамиды, призмы, конуса, цилиндра, площадь сферы, объем куба, прямоугольного параллелепипеда, пирамиды, призмы, цилиндра, конуса, шара; умение изображать многогранники и поверхности вращения, их сечения от руки, с помощью чертежных инструментов и электронных средств; уметь распознавать симметрию в пространстве; уметь распознавать правильные многогранники; - уметь оперировать понятиями: прямоугольная система координат, координаты точки, вектор, координаты вектора, скалярное произведение, угол между векторами, сумма векторов, произведение вектора на число; находить с помощью изученных формул координаты |

| | | |
|--------------------------------------|--|---|
| циях | <p>деятельность, выявлять проблемы, ставить и формулировать собственные задачи в образовательной деятельности и жизненных ситуациях;</p> <ul style="list-style-type: none"> - самостоятельно составлять план решения проблемы с учетом имеющихся ресурсов, собственных возможностей и предпочтений; - давать оценку новым ситуациям; <p>способствовать формированию и проявлению широкой эрудиции в разных областях знаний, постоянно повышать свой образовательный и культурный уровень;</p> <p>б) самоконтроль:</p> <p>использовать приемы рефлексии для оценки ситуации, выбора верного решения;</p> <ul style="list-style-type: none"> - уметь оценивать риски и своевременно принимать решения по их снижению; <p>в) эмоциональный интеллект, предполагающий сформированность:</p> <p>внутренней мотивации, включающей стремление к достижению цели и успеху, оптимизм, инициативность, умение действовать, исходя из своих возможностей;</p> <ul style="list-style-type: none"> - эмпатии, включающей способность понимать эмоциональное состояние других, учитывать его при осуществлении коммуникации, способность к сочувствию и сопереживанию; - социальных навыков, включающих способность выстраивать отношения с другими людьми, заботиться, проявлять интерес и разрешать конфликты | середины отрезка, расстояние между двумя точками |
| ОК 04 Эффективно взаимодействовать и | <p>готовность к саморазвитию, самостоятельности и самоопределению;</p> <p>-овладение навыками учебно-исследовательской,</p> | - уметь оперировать понятиями: случайный опыт и случайное событие, вероятность случайного события; уметь вычислять вероятность с использованием графических методов; применять формулы сло- |

| | | |
|---|---|--|
| <p>работать в колл-лективе и команде</p> | <p>проектной и социальной деятельности; Овладение универсальными коммуникативными действиями: б) совместная деятельность: - понимать и использовать преимущества командной и индивидуальной работы; - принимать цели совместной деятельности, организовывать и координировать действия по ее достижению: составлять план действий, распределять роли с учетом мнений участников обсуждать результаты совместной работы; - координировать и выполнять работу в условиях реального, виртуального и комбинированного взаимодействия; - осуществлять позитивное стратегическое поведение в различных ситуациях, проявлять творчество и воображение, быть инициативным. Овладение универсальными регулятивными действиями: г) принятие себя и других людей: - принимать мотивы и аргументы других людей при анализе результатов деятельности; - признавать свое право и право других людей на ошибки; - развивать способность понимать мир с позиции другого человека</p> | <p>жения и умножения вероятностей, комбинаторные факты и формулы при решении задач; оценивать вероятности реальных событий; знакомство со случайными величинами; умение приводить примеры проявления закона больших чисел в природных и общественных явлениях; - уметь свободно оперировать понятиями: степень с целым показателем, корень натуральной степени, степень с рациональным показателем, степень с действительным (вещественным) показателем, логарифм числа, синус, косинус и тангенс произвольного числа; - уметь свободно оперировать понятиями: график функции, обратная функция, композиция функций, линейная функция, квадратичная функция, степенная функция с целым показателем, тригонометрические функции, обратные тригонометрические функции, показательная и логарифмическая функции; уметь строить графики функций, выполнять преобразования графиков функций; - уметь использовать графики функций для изучения процессов и зависимостей при решении задач из других учебных предметов и из реальной жизни; выражать формулами зависимости между величинами; - свободно оперировать понятиями: четность функции, периодичность функции, ограниченность функции, монотонность функции, экстремум функции, наибольшее и наименьшее значения функции на промежутке; уметь проводить исследование функции; - уметь использовать свойства и графики функций для решения уравнений, неравенств и задач с параметрами; изображать на координатной плоскости множества решений уравнений, неравенств и их систем</p> |
| <p>ОК 05 Осуществлять устную и письменную коммуникацию на государственном</p> | <p>В области эстетического воспитания: - эстетическое отношение к миру, включая эстетику быта, научного и технического творчества, спорта, труда и общественных отношений; - способность воспринимать различные виды искусства, традиции и творчество своего и других</p> | <p>- уметь оперировать понятиями: среднее арифметическое, медиана, наибольшее и наименьшее значения, размах, дисперсия, стандартное отклонение числового набора; умение извлекать, интерпретировать информацию, представленную в таблицах, на диаграммах, графиках, отражающую свойства реальных процессов и явлений; представлять информацию с помощью таблиц и диаграмм; исследовать</p> |

| | | |
|--|--|---|
| <p>языке Российской Федерации с учетом особенностей социального и культурного контекста</p> | <p>народов, ощущать эмоциональное воздействие искусства;</p> <ul style="list-style-type: none"> - убежденность в значимости для личности и общества отечественного и мирового искусства, этнических культурных традиций и народного творчества; - готовность к самовыражению в разных видах искусства, стремление проявлять качества творческой личности; <p>Овладение универсальными коммуникативными действиями:</p> <p>а) общение:</p> <ul style="list-style-type: none"> - осуществлять коммуникации во всех сферах жизни; - распознавать невербальные средства общения, понимать значение социальных знаков, распознавать предпосылки конфликтных ситуаций и смягчать конфликты; - развернуто и логично излагать свою точку зрения с использованием языковых средств | <p>статистические данные, в том числе с применением графических методов и электронных средств;</p> <ul style="list-style-type: none"> - уметь оперировать понятиями: точка, прямая, плоскость, пространство, двугранный угол, скрещивающиеся прямые, параллельность и перпендикулярность прямых и плоскостей, угол между прямыми, угол между прямой и плоскостью, угол между плоскостями, расстояние от точки до плоскости, расстояние между прямыми, расстояние между плоскостями; - уметь использовать при решении задач изученные факты и теоремы планиметрии; умение оценивать размеры объектов окружающего мира |
| <p>ОК 06 Проявлять гражданско-патриотическую позицию, демонстрировать осознанное поведение на основе традиционных общечеловеческих ценностей, в том числе с учетом</p> | <ul style="list-style-type: none"> - осознание обучающимися российской гражданской идентичности; - целенаправленное развитие внутренней позиции личности на основе духовно-нравственных ценностей народов Российской Федерации, исторических и национально-культурных традиций, формирование системы значимых ценностно-смысловых установок, антикоррупционного мировоззрения, правосознания, экологической культуры, способности ставить цели и строить жизненные планы; <p>В части гражданского воспитания:</p> <ul style="list-style-type: none"> - осознание своих конституционных прав и обя- | <ul style="list-style-type: none"> - уметь оперировать понятиями: прямоугольная система координат, координаты точки, вектор, координаты вектора, скалярное произведение, угол между векторами, сумма векторов, произведение вектора на число; находить с помощью изученных формул координаты середины отрезка, расстояние между двумя точками; - уметь выбирать подходящий изученный метод для решения задачи, распознавать математические факты и математические модели в природных и общественных явлениях, в искусстве; умение приводить примеры математических открытий российской и мировой математической науки. - уметь оперировать понятиями: случайный опыт и случайное событие, вероятность случайного события; уметь вычислять вероятность с использованием графических методов; применять формулы сло- |

| | | |
|--|--|---|
| <p>гармонизации межнациональных и межрелигиозных отношений, применять стандарты антикоррупционного поведения</p> | <p>занностей, уважение закона и правопорядка;</p> <ul style="list-style-type: none"> - принятие традиционных национальных, общечеловеческих гуманистических и демократических ценностей; - готовность противостоять идеологии экстремизма, национализма, ксенофобии, дискриминации по социальным, религиозным, расовым, национальным признакам; - готовность вести совместную деятельность в интересах гражданского общества, участвовать в самоуправлении в общеобразовательной организации и детско-юношеских организациях; - умение взаимодействовать с социальными институтами в соответствии с их функциями и назначением; - готовность к гуманитарной и волонтерской деятельности; <p>патриотического воспитания:</p> <ul style="list-style-type: none"> - сформированность российской гражданской идентичности, патриотизма, уважения к своему народу, чувства ответственности перед Родиной, гордости за свой край, свою Родину, свой язык и культуру, прошлое и настоящее многонационального народа России; - ценностное отношение к государственным символам, историческому и природному наследию, памятникам, традициям народов России, достижениям России в науке, искусстве, спорте, технологиях и труде; - идейная убежденность, готовность к служению и защите Отечества, ответственность за его судьбу; освоенные обучающимися межпредметные понятия и универсальные учебные действия (ре- | <p>жения и умножения вероятностей, комбинаторные факты и формулы при решении задач; оценивать вероятности реальных событий; знакомство со случайными величинами; умение приводить примеры проявления закона больших чисел в природных и общественных явлениях</p> |
|--|--|---|

| | | |
|--|---|--|
| | <p>гулятивные, познавательные, коммуникативные);</p> <ul style="list-style-type: none"> - способность их использования в познавательной и социальной практике, готовность к самостоятельному планированию и осуществлению учебной деятельности, организации учебного сотрудничества с педагогическими работниками и сверстниками, к участию в построении индивидуальной образовательной траектории; - овладение навыками учебно-исследовательской, проектной и социальной деятельности | |
| <p>ОК 07 Содействовать сохранению окружающей среды, ресурсосбережению, применять знания об изменении климата, принципы бережливого производства, эффективно действовать в чрезвычайных ситуациях</p> | <ul style="list-style-type: none"> не принимать действия, приносящие вред окружающей среде; - уметь прогнозировать неблагоприятные экологические последствия предпринимаемых действий, предотвращать их; - расширить опыт деятельности экологической направленности; - разрабатывать план решения проблемы с учетом анализа имеющихся материальных и нематериальных ресурсов; - осуществлять целенаправленный поиск переноса средств и способов действия в профессиональную среду; - уметь переносить знания в познавательную и практическую области жизнедеятельности; - предлагать новые проекты, оценивать идеи с позиции новизны, оригинальности, практической значимости; - давать оценку новым ситуациям, вносить коррективы в деятельность, оценивать соответствие результатов целям | <ul style="list-style-type: none"> - уметь оперировать понятиями: функция, непрерывная функция, производная, первообразная, определенный интеграл; уметь находить производные элементарных функций, используя справочные материалы; исследовать в простейших случаях функции на монотонность, находить наибольшие и наименьшие значения функций; строить графики многочленов с использованием аппарата математического анализа; применять производную при решении задач на движение; решать практико-ориентированные задачи на наибольшие и наименьшие значения, нахождение пути, скорости и ускорения; - уметь оперировать понятиями: движение в пространстве, подобные фигуры в пространстве; использовать отношение площадей поверхностей и объемов подобных фигур при решении задач; - уметь вычислять геометрические величины (длина, угол, площадь, объем, площадь поверхности), используя изученные формулы и методы |

2. КОДИФИКАТОР ОЦЕНОЧНЫХ СРЕДСТВ

| Функциональный признак оценочного средства (тип контрольного задания) | Метод/форма контроля |
|---|---|
| Расчётная задача | Контрольная работа, индивидуальное домашнее задание, лабораторная работа, практические занятия, дифференцированный зачёт, экзамен |
| Практическое задание | Лабораторная работа, практические занятия, дифференцированный зачёт, экзамен |
| Тест, тестовое задание | Тестирование, дифференцированный зачёт, экзамен |
| Проектное задание | Учебный проект, исследовательский, обучающий, сервисный, социальный творческий, рекламно-презентационный |

Распределение типов контрольных заданий по темам для оценивания предметных результатов.

| Наименование темы | Формируемые ОК | Тип контрольного задания |
|-------------------|--|--------------------------|
| Раздел 1 | | |
| Тема 1.1 | ОК 1, ОК 2, ОК 3, ОК 4, ОК 5, ОК 6, ОК 7 | ФО |
| Тема 1.2 | ОК 1, ОК 2, ОК 3, ОК 4, ОК 5, ОК 6, ОК 7 | ИЗ |
| Тема 1.3 | ОК 1, ОК 2, ОК 3, ОК 4, ОК 5, ОК 6, ОК 7 | ПР |
| Тема 1.4 | ОК 1, ОК 2, ОК 3, ОК 4, ОК 5, ОК 6, ОК 7 | ПР |
| Тема 1.5 | ОК 1, ОК 2, ОК 3, ОК 4, ОК 5, ОК 6, ОК 7 | ОК, ПР |
| Тема 1.6 | ОК 1, ОК 2, ОК 3, ОК 4, ОК 5, ОК 6, ОК 7 | ИЗ |
| Тема 1.7 | ОК 1, ОК 2, ОК 3, ОК 4, ОК 5, ОК 6, ОК 7 | КР |
| Раздел 2 | | |
| Тема 2.1 | ОК 1, ОК 2, ОК 4, ОК 7 | ОК |
| Тема 2.2 | ОК 1, ОК 2, ОК 4, ОК 7 | ПР |
| Раздел 3 | | |
| Тема 3.1 | ОК 1, ОК 3, ОК 4, ОК 7 | ОК |
| Тема 3.2 | ОК 1, ОК 3, ОК 4, ОК 7 | ОК |

| Наименование темы | Формируемые ОК | Тип контрольного задания |
|-------------------|--|--------------------------|
| Тема 3.3 | ОК 1, ОК 3, ОК 4, ОК 7 | ОК |
| Тема 3.4 | ОК 1, ОК 3, ОК 4, ОК 7 | ФО |
| Тема 3.5 | ОК 1, ОК 3, ОК 4, ОК 7 | ОК, ПР |
| Тема 3.6 | ОК 1, ОК 3, ОК 4, ОК 7 | КР |
| Раздел 4 | | |
| Тема 4.1 | ОК 3, ОК 4, ОК 7 | ОК |
| Тема 4.2 | ОК 3, ОК 4, ОК 7 | ОК |
| Тема 4.3 | ОК 3, ОК 4, ОК 7 | ПР |
| Тема 4.4 | ОК 3, ОК 4, ОК 7 | ИЗ |
| Раздел 5 | | |
| Тема 5.1 | ОК 1, ОК 2, ОК 3, ОК 4, ОК 5, ОК 6, ОК 7 | ОК |
| Тема 5.2 | ОК 1, ОК 2, ОК 3, ОК 4, ОК 5, ОК 6, ОК 7 | ФО |
| Тема 5.3 | ОК 1, ОК 2, ОК 3, ОК 4, ОК 5, ОК 6, ОК 7 | ФО |
| Тема 5.4 | ОК 1, ОК 2, ОК 3, ОК 4, ОК 5, ОК 6, ОК 7 | ФО |
| Тема 5.5 | ОК 1, ОК 2, ОК 3, ОК 4, ОК 5, ОК 6, ОК 7 | ОК |
| Тема 5.6 | ОК 1, ОК 2, ОК 3, ОК 4, ОК 5, ОК 6, ОК 7 | ИЗ |
| Тема 5.7 | ОК 1, ОК 2, ОК 3, ОК 4, ОК 5, ОК 6, ОК 7 | ПР |
| Тема 5.8 | ОК 1, ОК 2, ОК 3, ОК 4, ОК 5, ОК 6, ОК 7 | ПР |
| Тема 5.9 | ОК 1, ОК 2, ОК 3, ОК 4, ОК 5, ОК 6, ОК 7 | ФО |
| Тема 5.10 | ОК 1, ОК 2, ОК 3, ОК 4, ОК 5, ОК 6, ОК 7 | ФО |
| Тема 5.11 | ОК 1, ОК 2, ОК 3, ОК 4, ОК 5, ОК 6, ОК 7 | ФО |
| Тема 5.12 | ОК 1, ОК 2, ОК 3, | ФО |

| Наименование темы | Формируемые ОК | Тип контрольного задания |
|-------------------|--|--------------------------|
| | ОК 4, ОК 5, ОК 6, ОК 7 | |
| Тема 5.13 | ОК 1, ОК 2, ОК 3, ОК 4, ОК 5, ОК 6, ОК 7 | ОК |
| Тема 5.14 | ОК 1, ОК 2, ОК 3, ОК 4, ОК 5, ОК 6, ОК 7 | КЗ |
| Тема 5.15 | ОК 1, ОК 2, ОК 3, ОК 4, ОК 5, ОК 6, ОК 7 | ПР |
| Тема 5.16 | ОК 1, ОК 2, ОК 3, ОК 4, ОК 5, ОК 6, ОК 7 | ПР |
| Тема 5.17 | ОК 1, ОК 2, ОК 3, ОК 4, ОК 5, ОК 6, ОК 7 | КР |
| Раздел 6 | | |
| Тема 6.1 | ОК 1, ОК 4, ОК 6, ОК 7 | ОК |
| Тема 6.2 | ОК 1, ОК 4, ОК 6, ОК 7 | ОК, ПР |
| Тема 6.3 | ОК 1, ОК 4, ОК 6, ОК 7 | ПР |
| Тема 6.4 | ОК 1, ОК 4, ОК 6, ОК 7 | КР |
| Раздел 7 | | |
| Тема 7.1 | ОК 1, ОК 2, ОК 3, ОК 4, ОК 5, ОК 7 | ОК |
| Тема 7.2 | ОК 1, ОК 2, ОК 3, ОК 4, ОК 5, ОК 7 | ОК |
| Тема 7.3 | ОК 1, ОК 2, ОК 3, ОК 4, ОК 5, ОК 7 | ОК, ПР |
| Тема 7.4 | ОК 1, ОК 2, ОК 3, ОК 4, ОК 5, ОК 7 | ОК |
| Тема 7.5 | ОК 1, ОК 2, ОК 3, ОК 4, ОК 5, ОК 7 | ОК |
| Тема 7.6 | ОК 1, ОК 2, ОК 3, ОК 4, ОК 5, ОК 7 | ОК, ПР |
| Тема 7.7 | ОК 1, ОК 2, ОК 3, ОК 4, ОК 5, ОК 7 | КР |
| Раздел 8 | | |
| Тема 8.1 | ОК 1, ОК 2, ОК 3, ОК 4, ОК 5, ОК 6, ОК 7 | ОК |
| Тема 8.2 | ОК 1, ОК 2, ОК 3, ОК 4, ОК 5, ОК 6, ОК 7 | ФО |

| Наименование темы | Формируемые ОК | Тип контрольного задания |
|-------------------|--|--------------------------|
| Тема 8.3 | ОК 1, ОК 2, ОК 3, ОК 4, ОК 5, ОК 6, ОК 7 | ФО |
| Тема 8.4 | ОК 1, ОК 2, ОК 3, ОК 4, ОК 5, ОК 6, ОК 7 | ФО |
| Тема 8.5 | ОК 1, ОК 2, ОК 3, ОК 4, ОК 5, ОК 6, ОК 7 | КЗ |
| Тема 8.6 | ОК 1, ОК 2, ОК 3, ОК 4, ОК 5, ОК 6, ОК 7 | ПР |
| Тема 8.7 | ОК 1, ОК 2, ОК 3, ОК 4, ОК 5, ОК 6, ОК 7 | ОК, ПР |
| Тема 8.8 | ОК 1, ОК 2, ОК 3, ОК 4, ОК 5, ОК 6, ОК 7 | ОК |
| Тема 8.9 | ОК 1, ОК 2, ОК 3, ОК 4, ОК 5, ОК 6, ОК 7 | ОК |
| Тема 8.10 | ОК 1, ОК 2, ОК 3, ОК 4, ОК 5, ОК 6, ОК 7 | ИЗ |
| Тема 8.11 | ОК 1, ОК 2, ОК 3, ОК 4, ОК 5, ОК 6, ОК 7 | КР |
| Раздел 9 | | |
| Тема 9.1 | ОК 1, ОК 2, ОК 3, ОК 4, ОК 5, ОК 7 | ФО |
| Тема 9.2 | ОК 1, ОК 2, ОК 3, ОК 4, ОК 5, ОК 7 | ФО |
| Тема 9.3 | ОК 1, ОК 2, ОК 3, ОК 4, ОК 5, ОК 7 | ФО |
| Тема 9.4 | ОК 1, ОК 2, ОК 3, ОК 4, ОК 5, ОК 7 | ОК |
| Тема 9.5 | ОК 1, ОК 2, ОК 3, ОК 4, ОК 5, ОК 7 | КР |
| Раздел 10 | | |
| Тема 10.1 | ОК 1, ОК 2, ОК 3, ОК 4, ОК 5, ОК 7 | ФО |
| Тема 10.2 | ОК 1, ОК 2, ОК 3, ОК 4, ОК 5, ОК 7 | ОК, ПР |
| Тема 10.3 | ОК 1, ОК 2, ОК 3, ОК 4, ОК 5, ОК 7 | ПР |
| Тема 10.4 | ОК 1, ОК 2, ОК 3, ОК 4, ОК 5, ОК 7 | КР |
| Раздел 11 | | |

| Наименование темы | Формируемые ОК | Тип контрольного задания |
|-------------------|--|--------------------------|
| Тема 11.1 | ОК 1, ОК 2, ОК 3, ОК 4, ОК 5, ОК 7 | ОК |
| Тема 11.2 | ОК 1, ОК 2, ОК 3, ОК 4, ОК 5, ОК 7 | ФО |
| Тема 11.3 | ОК 1, ОК 2, ОК 3, ОК 4, ОК 5, ОК 7 | ОК |
| Тема 11.4 | ОК 1, ОК 2, ОК 3, ОК 4, ОК 5, ОК 7 | ОК, ПР |
| Тема 11.5 | ОК 1, ОК 2, ОК 3, ОК 4, ОК 5, ОК 7 | ОК |
| Тема 11.6 | ОК 1, ОК 2, ОК 3, ОК 4, ОК 5, ОК 7 | ПР |
| Тема 11.7 | ОК 1, ОК 2, ОК 3, ОК 4, ОК 5, ОК 7 | КР |
| Раздел 12 | | |
| Тема 12.1 | ОК 1, ОК 2, ОК 3, ОК 4, ОК 5, ОК 6, ОК 7 | ОК |
| Тема 12.2 | ОК 1, ОК 2, ОК 3, ОК 4, ОК 5, ОК 6, ОК 7 | ФО |
| Тема 12.3 | ОК 1, ОК 2, ОК 3, ОК 4, ОК 5, ОК 6, ОК 7 | ПР |
| Тема 12.4 | ОК 1, ОК 2, ОК 3, ОК 4, ОК 5, ОК 6, ОК 7 | ИЗ |
| Тема 12.5 | ОК 1, ОК 2, ОК 3, ОК 4, ОК 5, ОК 6, ОК 7 | ОК |
| Тема 12.6 | ОК 1, ОК 2, ОК 3, ОК 4, ОК 5, ОК 6, ОК 7 | ФО, ПР |
| Тема 12.7 | ОК 1, ОК 2, ОК 3, ОК 4, ОК 5, ОК 6, ОК 7 | ОК |
| Тема 12.8 | ОК 1, ОК 2, ОК 3, ОК 4, ОК 5, ОК 6, ОК 7 | ОК, КЗ |
| Тема 12.9 | ОК 1, ОК 2, ОК 3, ОК 4, ОК 5, ОК 6, ОК 7 | ИЗ |
| Тема 12.10 | ОК 1, ОК 2, ОК 3, ОК 4, ОК 5, ОК 6, ОК 7 | ПР, П |
| Тема 12.11 | ОК 1, ОК 2, ОК 3, ОК 4, ОК 5, ОК 6, ОК 7 | КР |

| Наименование темы | Формируемые ОК | Тип контрольного задания |
|--------------------------|--|--------------------------|
| Раздел 13 | | |
| Тема 13.1 | ОК 1, ОК 2, ОК 3, ОК 4, ОК 5, ОК 6, ОК 7 | ОК |
| Тема 13.2 | ОК 1, ОК 2, ОК 3, ОК 4, ОК 5, ОК 6, ОК 7 | ОК |
| Тема 13.3 | ОК 1, ОК 2, ОК 3, ОК 4, ОК 5, ОК 6, ОК 7 | ФО |
| Тема 13.4 | ОК 1, ОК 2, ОК 3, ОК 4, ОК 5, ОК 6, ОК 7 | ОК, ПР |
| Тема 13.5 | ОК 1, ОК 2, ОК 3, ОК 4, ОК 5, ОК 6, ОК 7 | ФО, ПР |
| Тема 13.6 | ОК 1, ОК 2, ОК 3, ОК 4, ОК 5, ОК 6, ОК 7 | КР |
| Раздел 14 | | |
| Тема 14.1 | ОК 1, ОК 2, ОК 3, ОК 4, ОК 5, ОК 6, ОК 7 | ПР |
| Тема 14.2 | ОК 1, ОК 2, ОК 3, ОК 4, ОК 5, ОК 6, ОК 7 | ПР |
| Тема 14.3 | ОК 1, ОК 2, ОК 3, ОК 4, ОК 5, ОК 6, ОК 7 | ПР |
| Тема 14.4 | ОК 1, ОК 2, ОК 3, ОК 4, ОК 5, ОК 6, ОК 7 | ОК |
| Тема 14.5 | ОК 1, ОК 2, ОК 3, ОК 4, ОК 5, ОК 6, ОК 7 | ПР |
| Тема 14.6 | ОК 1, ОК 2, ОК 3, ОК 4, ОК 5, ОК 6, ОК 7 | ПР |
| Промежуточная аттестация | ОК 1, ОК 2, ОК 3, ОК 4, ОК 5, ОК 6, ОК 7 | Экзамен |

Условные обозначения:

ФО – фронтальный (устный) опрос;

ТК – тестовый контроль;

ОК – проверка опорных конспектов;

ИЗ – выполнение индивидуальных заданий;

ПР – выполнение практической работы;

РТ – рабочая тетрадь;
 КР – контрольная работа;
 ПФ – портфолио
 П – проект
 КЗ – кейс-задание
 РФ - Реферат
 ДЗ – дифференцированный зачёт

3. СИСТЕМА ОЦЕНКИ ОБРАЗОВАТЕЛЬНЫХ ДОСТИЖЕНИЙ ОБУЧАЮЩИХСЯ ПО КАЖДОМУ ОЦЕНОЧНОМУ СРЕДСТВУ

Оценка индивидуальных образовательных достижений по результатам текущего контроля и промежуточной аттестации производится в соответствии с универсальной шкалой (таблица)

| Процент результативности (правильных ответов) | Качественная оценка индивидуальных образовательных достижений | |
|---|---|---------------------|
| | балл (отметка) | вербальный аналог |
| 90-100 | 5 | отлично |
| 80-89 | 4 | хорошо |
| 70-79 | 3 | удовлетворительно |
| менее 70 | 2 | неудовлетворительно |

Критерии оценки выполненного практического задания

Оценка 5 («отлично») ставится за работу, выполненную полностью без ошибок и недочётов.

Оценка 4 («хорошо») ставится за работу, выполненную полностью, но при наличии в ней не более одной негрубой ошибки и одного недочёта, не более трёх недочётов.

Оценка 3 («удовлетворительно») ставится, если обучающийся правильно выполнил не менее 2/3 всей работы или допустил не более одной грубой ошибки и двух недочётов, не более одной грубой и одной не грубой ошибки, не более трёх негрубых ошибок, одной негрубой ошибки и трёх недочётов, при наличии четырёх-пяти недочётов.

Оценка 2 («неудовлетворительно») ставится, если число ошибок и недочётов превысило норму для оценки 3 или правильно выполнено менее 2/3 всей работы.

Критерии оценки ответов в ходе устного опроса

Оценивается правильность ответа обучающегося на один из приведённых вопросов. При этом выставляются следующие оценки:

«Отлично» выставляется при соблюдении обучающимся следующих условий:

- полно раскрыл содержание материала в объёме, предусмотренном программой, содержанием лекции и учебником;
- изложил материал грамотным языком в определенной логической последовательности, точно используя специализированную терминологию и символику;
- показал умение иллюстрировать теоретические положения конкретными примерами, применять их в новой ситуации при выполнении практического задания;
- продемонстрировал усвоение ранее изученных сопутствующих вопросов, сформированность и устойчивость используемых при ответе умений и навыков;
- отвечал самостоятельно без наводящих вопросов преподавателя.

Примечание: для получения отметки «отлично» возможны одна-две неточности

при освещении второстепенных вопросов или в выкладках, которые обучающийся легко исправил по замечанию преподавателя.

«Хорошо» - ответ обучающегося в основном удовлетворяет требованиям на оценку «отлично», но при этом имеет один из недостатков:

- в изложении допущены небольшие пробелы, не исказившие логического и информационного содержания ответа;

- допущены один-два недочёта при освещении основного содержания ответа, исправленные по замечанию преподавателя;

- допущены ошибка или более двух недочётов при освещении второстепенных вопросов или в выкладках, легко исправленные по замечанию преподавателя.

«Удовлетворительно» выставляется при соблюдении следующих условий:

- неполно или непоследовательно раскрыто содержание материала, но показано общее понимание вопроса и продемонстрированы умения, достаточные для дальнейшего усвоения программного материала, имелись затруднения или допущены ошибки в определении понятий, использовании терминологии и выкладках, исправленные после нескольких наводящих вопросов преподавателя;

- обучающийся не справился с применением теории в новой ситуации при выполнении практического задания, но выполнил задания обязательного уровня сложности по данной теме;

- при знании теоретического материала выявлена недостаточная сформированность основных умений и навыков.

«Неудовлетворительно» выставляется при соблюдении следующих условий:

- не раскрыто основное содержание учебного материала;

- обнаружено незнание или непонимание обучающимся большей или наиболее важной части учебного материала;

- допущены ошибки в определении понятий, при использовании терминологии и иных выкладках, которые не исправлены после нескольких наводящих вопросов преподавателя;

- обучающийся обнаружил полное незнание и непонимание изучаемого учебного материала или не смог ответить ни на один из поставленных вопросов по изучаемому материалу.

Критерии оценки составления и оформления опорных конспектов

В ходе проверки преподавателем опорные конспекты оцениваются по следующим критериям:

1. Соответствие содержания теме.
2. Правильная структурированность информации.
3. Наличие логической связи изложенной информации.
4. Аккуратность и грамотность изложения.
5. Работа сдана в срок.

Каждый критерий оценивается по 5-балльной шкале. При выставлении оценки за опорный конспект выводится среднее значение оценки по пяти перечисленным критериям, округляемое до целого значения (до оценки) по правилам округления.

Критерии оценки выполнения практических работ и индивидуальных (в т.ч. зачётных) заданий:

1. Задание считается выполненным безусловно, если результат практической работы получен при правильном ходе решения задания и аккуратном выполнении.

2. Задание считается невыполненным, если обучающийся не приступил к его выполнению или допустил в нем погрешность, считающуюся, в соответствии с целью работы, ошибкой.

В ходе оценивания выполнения практических и индивидуальных заданий используется пятибалльная система оценок. Положительная оценка («3», «4», «5») выставляется, когда обучающийся показал владение основными умениями в рамках выполнения практической работы или индивидуального задания:

1. «Отлично» выставляется при соблюдении следующих условий:

- обучающийся самостоятельно выполнил все этапы решения задач в рамках выполнения практических и индивидуальных заданий;
- работа выполнена полностью и получен верный ответ или иное требуемое представление результата работы.

2. «Хорошо» выставляется при соблюдении следующих условий:

- работа выполнена полностью, но при выполнении обнаружилось недостаточное владение навыками работы с инструментарием (оборудование, приборы и т.п.) в рамках поставленной задачи;
- правильно выполнена большая часть работы (свыше 85 %);
- работа выполнена полностью, но использованы наименее оптимальные подходы к решению поставленной задачи.

3. «Удовлетворительно» выставляется при соблюдении следующих условий:

- работа выполнена не полностью, допущено более трёх ошибок, но обучающийся владеет основными навыками работы с инструментарием (оборудование, приборы и т.п.), требуемым для решения поставленной задачи.

4. «Неудовлетворительно» выставляется при соблюдении следующих условий:

- допущены существенные ошибки, показавшие, что обучающийся не владеет обязательными знаниями, умениями и навыками работы на ПК или значительная часть работы выполнена не самостоятельно.

Критерии оценки в ходе экзамена

В основе оценки при сдаче экзамена лежит пятибалльная система (5 «отлично», 4 «хорошо», 3 «удовлетворительно», 2 «неудовлетворительно»).

1. Ответ оценивается на «отлично», если обучающийся исчерпывающе, последовательно, грамотно и логически стройно излагает материал по вопросам билета (теста), не затрудняется с ответом при видоизменении задания, свободно справляется с решением практических задач и способен обосновать принятые решения, не допускает ошибок.

2. Ответ оценивается на «хорошо», если обучающийся твёрдо знает программный материал, грамотно и по существу его излагает, не допускает существенных неточностей при ответах, умеет грамотно применять теоретические знания на практике, а также владеет необходимыми навыками решения практических задач.

3. Ответ оценивается на «удовлетворительно», если обучающийся освоил только основной материал, однако не знает отдельных деталей, допускает неточности и некорректные формулировки, нарушает последовательность в изложении материала и испытывает затруднения при выполнении практических заданий.

4. Ответ оценивается на «неудовлетворительно», если обучающийся не раскрыл основное содержание материала, допускает существенные ошибки, с большими затруднениями выполняет практические задания.

4. БАНК КОМПЕТЕНТНОСТНО-ОЦЕНОЧНЫХ МАТЕРИАЛОВ ДЛЯ ОЦЕНКИ УСВОЕНИЯ УЧЕБНОГО ПРЕДМЕТА

4.1 Текущий контроль

4.1.1 Комплект оценочных заданий №1. Входной контроль. Раздел 1. Повторение курса математики основной школы

Обязательная часть

При решении заданий 1-4 запишите правильный ответ из четырех предложенных.

1. (1 балл) Раскройте формулу сокращенного умножения $a^2 - b^2$:

А) $a^2 - 2ab + b^2$; Б) $(a-b)(a+b)$; В) $a^2 + 2ab - b^2$; Г) $(a-b)(a-b)$

2. (1 балл) Площадь треугольника вычисляется по формуле:

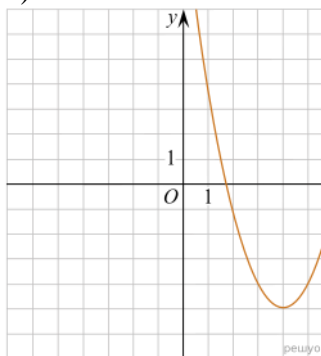
А) $S = a \cdot b$; Б) $S = (a \cdot b) / 2$; В) $S = 2a \cdot b$; Г) $S = (a \cdot b) / 3$.

3. (1 балл) Какое из следующих чисел заключено между числами $\frac{10}{17}$ и $\frac{5}{8}$?

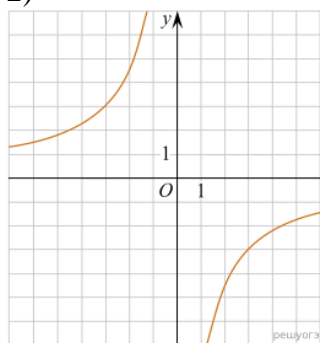
А) 0,4; Б) 0,5; В) 0,6; Г) 0,7

4. (1 балл) Даны графики функций. Какая формула соответствует графику 3)?

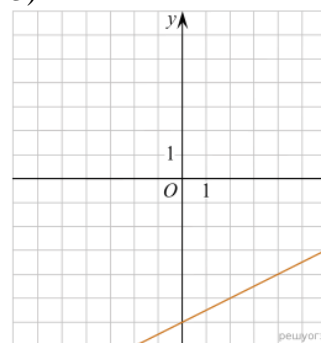
1)



2)



3)



А) $y = \frac{1}{2}x - 6$; Б) $y = x^2 - 8x + 11$; В) $y = -\frac{9}{x}$; Г) $y = x + 5$.

При выполнении заданий 5-8 запишите ход решения и полученный ответ.

5. (2 балла) Вычислите $\frac{1}{2} + \frac{11}{5}$.

6. (2 балла) Решите уравнение $x^2 - 7x + 10 = 0$. Если уравнение имеет более одного корня, в ответ запишите меньший из корней.

7. (2 балла) Площадь земель крестьянского хозяйства, отведенная под посадку кустарников и цветников, составляет 24 га и распределена между ними в отношении 5:3. Сколько гектаров занимают цветники?

8. (2 балла) Высота ВН параллелограмма ABCD делит его сторону AD на отрезки AN = 2 и ND = 32. Диагональ параллелограмма BD равна 40. Найдите площадь параллелограмма.

Дополнительная часть

При выполнении задания 9 запишите ход, обоснование решения и полученный ответ.

9. (3 балла) Рыболов проплыл на лодке от пристани некоторое расстояние вверх по течению реки, затем бросил якорь, 2 часа ловил рыбу и вернулся обратно через 5 часов от начала путешествия. На какое расстояние от пристани он отплыл, если скорость течения реки равна 2 км/ч, а собственная скорость лодки 6 км/ч?

Эталоны ответов:

| Номер задания | 1 | 2 | 3 | 4 | 5 | 6 | 7 | 8 | 9 |
|---------------|---|---|---|---|-----|---|---|-----|---|
| Ответ | Б | Б | В | А | 2,7 | 2 | 9 | 816 | 8 |

4.1.2 Комплект оценочных заданий №2. Раздел 3. Прямые и плоскости в пространстве

Теоретические вопросы:

1. Сформулируйте теорему Пифагора.
2. Перечислите основные фигуры в пространстве.
3. Перечислите способы задания плоскости.
4. Продолжите теорему: «Если одна из двух параллельных прямых перпендикулярна плоскости, то...».
5. Продолжите теорему: «Если две параллельные плоскости пересекаются третьей, то...».
6. Сформулируйте определение двуграного угла.
7. Сформулируйте определение трехгранного угла.
8. Раскройте понятие «угол между прямыми».
9. Перечислите взаимное расположение двух прямых в пространстве
10. Какие прямые называются параллельными в пространстве?
11. Какие прямые называются скрещивающимися в пространстве?
12. Какие прямые называются перпендикулярными в пространстве?
13. Перечислите взаимное расположение прямой и плоскости в пространстве.
14. Раскройте понятие «угол между прямой и плоскостью».
15. Раскройте понятие «параллельность прямой и плоскости».
16. Раскройте понятие «перпендикулярность прямой и плоскости».
17. Перечислите взаимное расположение двух плоскостей в пространстве.
18. Раскройте понятие «угол между плоскостями».
19. Раскройте понятие «параллельность плоскостей».
20. Раскройте понятие «перпендикулярность плоскостей».
21. Как найти расстояние от точки до прямой?
22. Как найти расстояние между прямыми?
23. Как найти расстояние между плоскостями?
24. Продолжите определение: «Перпендикуляр – это...».
25. Продолжите определение: «Наклонная – это...».
26. Продолжите определение: «Проекция наклонной – это...».
27. Перечислите свойства параллельного проектирования.
28. Приведите примеры симметрий на плоскости в природе, на судне.
29. Приведите примеры симметрий в пространстве в природе, на судне.
30. В чем отличие понятие «движение» от понятия «поворот»?

Контрольная работа

Обязательная часть

При решении заданий 1-4 запишите правильный ответ из четырех предложенных.

1. (1 балл) Расшифруйте краткую запись: $a \in \beta$.

А) точка a принадлежит плоскости β ; Б) точка a принадлежит прямой β ; В) прямая a принадлежит плоскости β ; Г) прямая a пересекает плоскость β .

2. (1 балл) Прямые АВ и СД скрещиваются. Какое расположение имеют прямые АС и ВД?

А) параллельные; Б) перпендикулярные; В) скрещиваются; Г) пересекаются.

3. (1 балл) Плоскости α и β имеют 1 общую точку. Каково их взаимное расположение?

А) параллельны; Б) пересекаются по прямой; В) совпадают; Г) скрещиваются.

4. (1 балл) Если прямая, проведенная на плоскости через основание наклонной, перпендикулярна ее проекции, то она...

А) перпендикулярна и самой наклонной; Б) параллельна и самой наклонной; В) скрещивается с наклонной; Г) перпендикулярна основанию наклонной.

При выполнении заданий 5-8 запишите ход решения и полученный ответ.

5. (2 балла) Через концы отрезка АВ и его середину М проведены параллельные прямые, пересекающие некоторую плоскость в точках A_1 , B_1 и M_1 . Найдите длину отрезка MM_1 , если отрезок АВ не пересекает плоскость и если $AA_1=6,8$ см, $BB_1=7,4$ см.

6. (2 балла) Прямые АС, АВ и АД попарно перпендикулярны. Найдите отрезок СД, если $AB=5$ см, $BC=13$ см, $AD=9$ см.

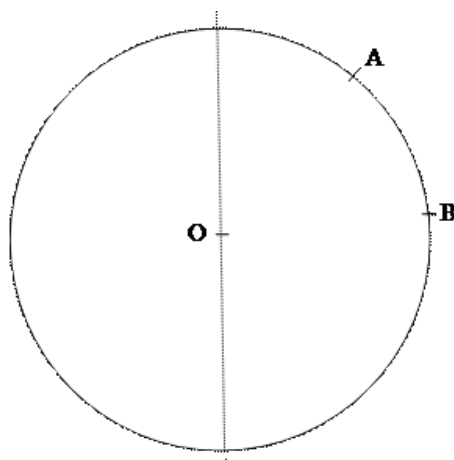
7. (2 балла) Из точки к плоскости проведены две наклонные. Найдите длины общего перпендикуляра, если проекции наклонных относятся как 2:3 и длины наклонных равны 23 см и 33 см.

8. (2 балла) Начертить куб $ABCD A_1 B_1 C_1 D_1$. Построить точку $K \in AB$, точку $M \in DD_1 C$, отрезок $PE \in A_1 B_1 C_1$.

Дополнительная часть

При выполнении задания 9 запишите ход, обоснование решения и полученный ответ.

9. (3 балла) На рисунке изображено сечение земной поверхности плоскостью, проходящей через ось вращения. Имеются точки А и В, лежащие на линии сечения. Определите расстояние между данными точками по прямой и по земной поверхности, если известно, что точки усматриваются из центра Земли О под углом 60° и её радиус равен 6400 км.



Эталоны ответов:

| Номер задания | 1 | 2 | 3 | 4 | 5 | 6 | 7 | 8 | 9 |
|---------------|---|---|---|---|-----|----|---|---|---|
| Ответ | В | В | Б | А | 7,1 | 15 | 9 | - | - |

4.1.3 Комплект оценочных заданий №3. Раздел 4. Координаты и векторы

Теоретические вопросы:

1. Из чего состоит прямоугольная система координат в пространстве?
2. Если точка лежит в плоскости xOy , какая координата у нее нулевая?
3. Приведите пример координат точки A , которая лежит на оси z .
4. Раскройте понятие «вектор».
5. Как найти координаты вектора?
6. Перечислите и раскройте правила сложения векторов.
7. Какие векторы называются коллинеарными?
8. Какие векторы называются перпендикулярными?
9. Чему равно скалярное произведение векторов?
10. Как найти векторное произведение векторов?
11. Чему равен угол между векторами?
12. Приведите пример матрицы 2×2 .
13. Приведите пример матрицы 3×3 .

Контрольная работа

Обязательная часть

При решении заданий 1-4 запишите правильный ответ из четырех предложенных.

1. (1 балл) Даны точки $A(1,0,5)$, $B(-2,0,4)$, $C(0,-1,0)$, $D(0,0,2)$. Какие из них лежат на координатной прямой Oy ?

А) А; Б) В; В) С; Г) Д.

2. (1 балл) Какие из векторов $a(1,0,-1)$, $c(1/3,2/3,-2/3)$, $v(1,1,1)$, $p(0,0,-2)$ являются единичными?

А) а; Б) с; В) в; Г) р.

3. (1 балл) Какие из векторов $a(1,2,-3)$, $c(3,6,-6)$, $v(2,4,-6)$ коллинеарны?

А) а, в; Б) с, в; В) а, с; Г) коллинеарных векторов нет.

4. (1 балл) Даны точки $A(2,0,5)$, $B(2,4,-2)$, $C(-2,6,3)$. Серединой какого отрезка является точка $M(0,3,4)$?

А) АВ; Б) ВС; В) АС; Г) СВ.

При выполнении заданий 5-8 запишите ход решения и полученный ответ.

5. (2 балла) Даны векторы $a(-6,0,8)$, $v(-3,2,-6)$. Найдите скалярное произведение векторов.

6. (2 балла) При каких значениях n векторы $\vec{a}(4,n,2)$, $\vec{v}(1,2,n)$ перпендикулярны?

7. (2 балла) Даны векторы $a(-6,0,8)$, $v(-3,2,-6)$. Найдите косинус угла между векторами.

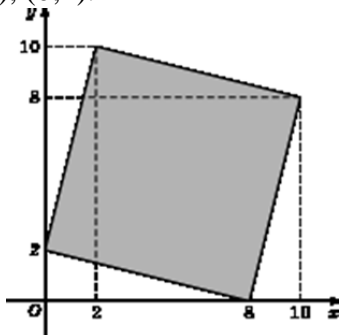
8. (2 балла) Докажите, что четырёхугольник АВСД является ромбом, если:

$A(6,7,8)$, $B(8,2,6)$, $C(4,3,2)$, $D(2,8,4)$.

Дополнительная часть

При выполнении задания 9 запишите ход, обоснование решения и полученный ответ.

9. (3 балла) Макет слани на судне представлен на координатной плоскости. Найдите площадь слани (четырёхугольника), вершины которого имеют координаты $(8;0)$, $(10;8)$, $(2;10)$, $(0;2)$.



Эталоны ответов:

| Номер задания | 1 | 2 | 3 | 4 | 5 | 6 | 7 | 8 | 9 |
|---------------|---|---|---|---|-----|----|------|---|----|
| Ответ | В | В | А | В | -30 | -1 | -3/7 | - | 68 |

4.1.4 Комплект оценочных заданий №4. Раздел 5. Многогранники и тела вращения

Теоретические вопросы:

- Продолжите определение: «Многогранник – это...».
- Продолжите определение: «Призма – это...».
- Продолжите определение: «Прямоугольный параллелепипед – это...».
- Продолжите определение: «Куб – это...».
- Продолжите определение: «Пирамида – это...».
- Сформулируйте свойство о противоположащих гранях параллелепипеда.
- Сформулируйте свойство о диагоналях параллелепипеда.
- Сформулируйте свойство о диагонали и линейных размерах прямоугольного параллелепипеда.
- Какая призма называется прямой?
- Какая призма называется правильной?
- Раскройте понятие «правильная пирамида».
- Что такое апофема правильной пирамиды?
- В чем отличие полной поверхности призмы от полной поверхности пирамиды?
- Сформулируйте теорему о вычислении боковой поверхности прямой призмы.
- Сформулируйте теорему о вычислении боковой поверхности правильной пирамиды.
- Назовите предметы из вашей профессиональной деятельности, которые имеют формы многогранников.
- Какие многогранники называются правильными? Перечислите правильные многогранники.
- Продолжите определение: «Цилиндр – это...».
- Продолжите определение: «Конус – это...».
- Продолжите определение: «Усеченный конус – это...».
- Продолжите определение: «Шар – это...».
- Что является высотой усеченного конуса?

| | | | | | | | | | |
|---------|---|---|---|---|----|------|------------------------|---|---|
| задания | | | | | | | | | |
| Ответ | В | Б | Б | А | 27 | 2744 | 72 π; 48 π; 64 π | 1 | - |

4.1.5 Комплект оценочных заданий №5. Раздел 6. Множества. Элементы теории графов

Теоретические вопросы:

1. Сформулируйте определение множества.
2. Продолжите определение: «Объединение множеств – это...».
3. Продолжите определение: «Пересечение множеств – это...».
4. Продолжите определение: «Разность множеств – это...».
5. Изобразите объединение двух множеств на кругах Эйлера.
6. Изобразите пересечение трех множеств на кругах Эйлера.
7. Сформулируйте определение графа. Что называется вершиной, ребром графа?
8. Как найти степень вершины графа?
9. Назовите отличительные черты полного и неполного графов.
10. Назовите отличительные черты связного и несвязного графов.

Контрольная работа**Обязательная часть**

При решении заданий 1-4 запишите правильный ответ из четырех предложенных.

1. (1 балл) Какая операция изображена на кругах Эйлера?



А) $E = A \cup B$; Б) $E = A \cap B$; В) $E = A \setminus B$; Г) $E = A - B$.

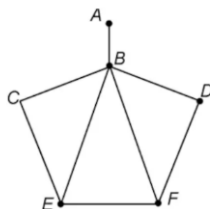
2. (1 балл) Какой граф представлен?

А) полный; Б) неполный; В) ДЕРЕВО; Г) нулевой.

3. (1 балл) Пятеро рабочих встретились при высадке цветов в клумбы. Сколько всего было сделано рукопожатий

А) 10; Б) 11; В) 5; Г) 6.

4. (1 балл) Определите степень вершины В:



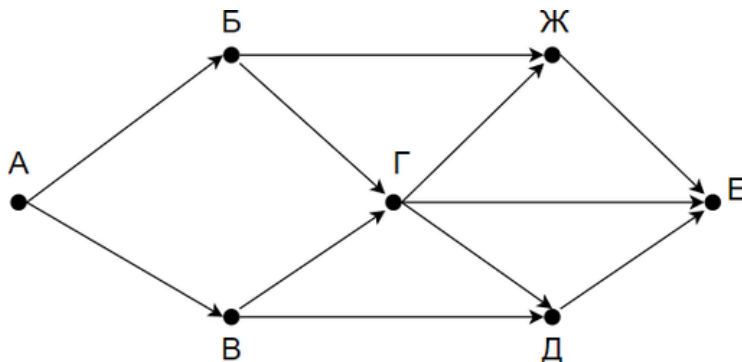
А) 8; Б) 11; В) 3; Г) 5.

При выполнении заданий 5-8 запишите ход решения и полученный ответ.

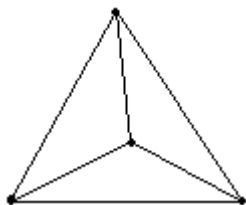
5. (2 балла) 1. Даны два множества $A = \{2, 4, 6, 8, 10, 12\}$, $B = \{3, 6, 9, 12\}$. Запишите и изобразите графически новое множество E: а) $E = A \cup B$; б) $E = A \cap B$.

6. (2 балла) Колины друзья занимаются каким-нибудь видом спорта. 14 из них увлекаются футболом, а 10 — баскетболом. И только двое увлекаются и тем и другим видом спорта. Сколько друзей у Толи?»

7. (2 балла) На рисунке — схема дорог, связывающих городские парки А, Б, В, Г, Д, Е. По каждой дороге можно двигаться только в одном направлении, указанном стрелкой. Сколько существует различных путей из парка А в парк Е?



8. (2 балла) Можно ли нарисовать изображенный на рисунке граф не отрывая карандаш от бумаги и проводя каждое ребро ровно один раз?



Дополнительная часть

При выполнении задания 9 запишите ход, обоснование решения и полученный ответ.

9. (3 балла) Первую или вторую контрольные работы по математике успешно написали 33 студента, первую или третью – 31 студент, вторую или третью – 32 студента. Не менее двух контрольных работ выполнили 20 студентов. Сколько студентов успешно решили только одну контрольную работу?

Эталоны ответов:

| Номер задания | 1 | 2 | 3 | 4 | 5 | 6 | 7 | 8 | 9 |
|---------------|---|---|----|---|---|----|---|-----|----|
| Ответ | В | Б | 10 | Г | - | 22 | 8 | нет | 18 |

4.1.6 Комплект оценочных заданий №6. Раздел 7. Элементы комбинаторики, статистики и теории вероятностей

Теоретические вопросы:

1. Продолжите определение: «Случайное событие – это...». Приведите пример.
2. Приведите пример достоверного события.
3. Приведите пример невозможного события.
4. Продолжите определение: «Вероятность случайного события – это...».
5. Сформулируйте правило нахождения сложения вероятностей.
6. Сформулируйте правило умножения вероятностей.

7. Как найти среднее арифметическое числового ряда?
8. Как найти медиану числового ряда?
9. Как вычисляется размах числового ряда?
10. Для чего нужны диаграммы, графики? Перечислите виды диаграмм.
11. Приведите примеры проявления закона больших чисел в природных явлениях.
12. Приведите примеры проявления закона больших чисел в общественных явлениях.
13. Что изучает статистика?
14. Продолжите определение: «Сочетание – это...».
15. Продолжите определение: «Размещение – это...».
16. Продолжите определение: «Перестановки – это...».
17. Приведите пример множества из реальной жизни.
18. Приведите пример операции пересечения множеств.
19. Приведите пример операции объединения множеств.
20. Приведите пример операции разности множеств.
21. Раскройте понятия «граф», «дерево», «цикл».

Контрольная работа
Обязательная часть

При решении заданий 1-4 запишите правильный ответ из четырех предложенных.

1. (1 балл) Комбинаторика – это раздел математики, отвечающий на вопросы сколькими способами можно выбрать элементы ...
А) заданного конечного множества; Б) бесконечного множества; В) любого множества; Г) иррациональных чисел.
2. (1 балл) Соединения из n элементов, отличающиеся друг от друга только порядком расположения в них элементов, называются:
А) перестановками; Б) сочетаниями; В) размещениями; Г) комбинациями.
3. (1 балл) Число всех возможных размещений вычисляется по формуле:
А) $A_n^m = n(n - m)$; Б) $A_n^m = n(n - 1) \dots (n - m + 1)$; В) $A_n^m = \frac{n!}{(n-m)!}$; Г) $A_n^m = n(n + m)$
4. (1 балл) Группировка – это...
А) упорядочение единиц совокупности по признаку; Б) разбиение единиц совокупности на группы по признаку; В) обобщение единичных фактов; Г) обобщение единичных признаков.

При выполнении заданий 5-8 запишите ход решения и полученный ответ.

5. (2 балла) В среднем из 200 насосов, поступивших на судно, 6 подтекают. Найдите вероятность того, что один случайно выбранный для контроля насос не подтекает?
6. (2 балла) Сравните примерную среднюю ежедневную скорость ветра за последние 10 дней. Составьте диаграмму по найденным данным. Сделайте выводы.
7. (2 балла) Работникам порта необходимо поставить под разгрузку 3 корабля. Сколько различных вариантов есть у них, если есть выбор из 5 кораблей?
8. (2 балла) Сколькими способами можно причалить 5 кораблей в порту на 5 свободных причалов, расположенных в один ряд?

Дополнительная часть

При выполнении задания 9 запишите ход, обоснование решения и полученный ответ.

9. (3 балла) Чтобы поступить в университет на специальность «Судовождение», абитуриент должен набрать на ЕГЭ не менее 70 баллов по каждому из трёх предметов — математика, русский язык и физика. Чтобы поступить на специальность «Эксплуатация СЭУ», нужно набрать не менее 70 баллов по каждому из трёх предметов — математика, русский язык и информатика.

Вероятность того, что абитуриент З. получит не менее 70 баллов по математике, равна 0,6, по русскому языку — 0,8, по физике — 0,5 и по информатике — 0,7.

Найдите вероятность того, что З. сможет поступить хотя бы на одну из двух упомянутых специальностей.

Эталоны ответов:

| Номер задания | 1 | 2 | 3 | 4 | 5 | 6 | 7 | 8 | 9 |
|---------------|---|---|---|---|-------|---|----|----|-------|
| Ответ | A | A | B | A | 0,997 | - | 10 | 24 | 0,408 |

4.1.7 Комплект оценочных заданий №7. Раздел 8. Основы тригонометрии. Тригонометрические функции

Теоретические вопросы:

1. Чему равен угол в один радиан?
2. В каких четвертях тригонометрического круга функция $y = \sin x$ принимает положительные значения?
3. В каких четвертях тригонометрического круга функция $y = \cos x$ принимает отрицательные значения?
4. Продолжите определение: «Синус острого угла – это...».
5. Продолжите определение: «Косинус острого угла – это...».
6. Продолжите определение: «Тангенс острого угла – это...».
7. Сформулируйте основное тригонометрическое тождество.
8. Чему равно произведение $\operatorname{tg} x \cdot \operatorname{ctg} x$?
9. Чему равен $\sin(2x)$? Сформулируйте правило вычисления.
10. Чему равен $\cos(2x)$? Сформулируйте правило вычисления.
11. Перечислите тригонометрические функции, укажите их периоды.
12. Чему равен период функции $y = \cos(4x)$?
13. ему равен период функции $y = \cos(x/4)$?
14. Определите область значения функции $y = 3\cos(5x)$?
15. Перечислите способы решения тригонометрических уравнений.
16. Раскройте алгоритм решения однородных тригонометрических уравнений первого порядка.
17. Раскройте алгоритм решения однородных тригонометрических уравнений второго порядка.

Контрольная работа

Обязательная часть

При решении заданий 1-4 запишите правильный ответ из четырех предложенных.

1. (1 балл) В $\triangle ABC$ $\sin C = \frac{AB}{AC}$. Какая из сторон является гипотенузой $\triangle ABC$?

A) АВ; Б) АС; В) ВС; Г) СВ.

2. (1 балл) Углом какой четверти является угол $\alpha=400^\circ$?

A) I; Б) II; В) III; Г) IV.

3. (1 балл) Какие из функций являются чётными?

A) $y=\sin x$; Б) $y=\cos x$; В) $y=\operatorname{tg} x$; Г) $y=\operatorname{ctg} x$.

4. (1 балл) Какие из чисел являются корнем уравнения $\cos x = \frac{1}{2}$?

A) $x=\frac{\pi}{6}$; Б) $x=\frac{\pi}{3}$; В) $x=\frac{\pi}{2}$; Г) $x=\frac{2\pi}{3}$.

При выполнении заданий 5-8 запишите ход решения и полученный ответ.

5. (2 балла) Вычислите: $\sin \frac{\pi}{2} + \cos \frac{\pi}{2}$.

6. (2 балла) Найдите значение выражения $4\arccos \frac{\sqrt{2}}{2} - 4\arcsin(-\frac{\sqrt{2}}{2})$

7. (2 балла) Докажите тождество: $2\sin(\pi/2+\alpha) + \cos(\pi - \alpha) = \cos \alpha$.

8. (2 балла) Решите уравнение: $\sin^2 x - 4 \sin x + 3 = 0$.

Дополнительная часть

При выполнении задания 9 запишите ход, обоснование решения и полученный ответ.

9. (3 балла) Решите систему уравнений:

$$\begin{cases} x + y = \pi \\ \sin x + \sin y = 2. \end{cases}$$

Эталоны ответов:

| Номер задания | 1 | 2 | 3 | 4 | 5 | 6 | 7 | 8 | 9 |
|---------------|---|---|---|---|---|--------|---|---|---|
| Ответ | Б | А | В | Б | 1 | 2π | - | $\frac{\pi}{2} + 2\pi n,$ $n \in \mathbb{Z}$ | $(\frac{\pi}{2} + 2\pi n; \frac{\pi}{2} + 2\pi n),$ $n \in \mathbb{Z}$ |

4.1.8 Комплект оценочных заданий №8. Раздел 9. Степени и корни. Степенная функция

Теоретические вопросы:

- Сформулируйте определение степенной функции.
- Перечислите свойства степенной функции с целым показателем.
- Перечислите свойства степени с действительным показателем. Приведите примеры.
- Перечислите свойства корня натуральной степени. Приведите примеры
- На что необходимо обратить внимание при решении иррационального уравнения четной степени?
- Чему равен корень четной степени из отрицательного числа? Приведите пример.
- Чему равен корень нечетной степени из отрицательного числа? Приведите пример.
- На что стоит обратить внимание при решении иррациональных, дробно-рациональных уравнений и неравенств?

Контрольная работа
Обязательная часть

При решении заданий 1-4 запишите правильный ответ из четырех предложенных.

- (1 балл) Между какими двумя натуральными числами находится число $\sqrt[3]{19}$?
А) 19 и 20; Б) 2 и 3; В) 18 и 19; Г) 3 и 4.
- (1 балл) Определите корень уравнения $x^3=125$
А) 3.; Б) -3; В) -5; Г) 5.
- (1 балл) Расположите в порядке возрастания числа: 2; $\sqrt[3]{5}$; $\sqrt[4]{17}$
А) 2; $\sqrt[3]{5}$; $\sqrt[4]{17}$; Б) 2; $\sqrt[4]{17}$; $\sqrt[3]{5}$; В) $\sqrt[3]{5}$; 2; $\sqrt[4]{17}$; Г) $\sqrt[4]{17}$; 2; $\sqrt[3]{5}$.
- (1 балл) Умножая числа с одинаковым основанием, их степени...?
А) умножаем; Б) делим; В) складываем; Г) отнимаем.

При выполнении заданий 5-8 запишите ход решения и полученный ответ.

- (2 балла) Найдите значение выражения $\frac{a^{5,58} \cdot a^{2,9}}{a^{6,48}}$ при $a=7$.

- (2 балла) Найдите значение выражения $\frac{(\sqrt{12} + \sqrt{8})^2}{10 + \sqrt{96}}$.

7. (2 балла) Расстояние от наблюдателя, находящегося на небольшой высоте h километров над землёй, до наблюдаемой им линии горизонта вычисляется по формуле $l = \sqrt{2Rh}$, где $R=6400$ км — радиус Земли. С какой высоты горизонт виден на расстоянии 48 километров? Ответ выразите в километрах.

- (2 балла) Решите уравнение $\sqrt{-32-x} = 2$.

Дополнительная часть

При выполнении задания 9 запишите ход, обоснование решения и полученный ответ.

- (3 балла) Решите графически систему уравнений: $\begin{cases} y = \sqrt{x} \\ y = x \end{cases}$

Эталоны ответов:

| Номер задания | 1 | 2 | 3 | 4 | 5 | 6 | 7 | 8 | 9 |
|---------------|---|---|---|---|----|---|------|-----|--------|
| Ответ | Б | Г | В | В | 49 | 2 | 0,18 | -36 | (1; 1) |

4.1.9 Комплект оценочных заданий №9. Раздел 10. Показательная функция

Теоретические вопросы:

- Сформулируйте определение показательной функции.
- Перечислите свойства показательной функции.
- Перечислите способы решения показательных уравнений.
- Сформулируйте правило решения простейших показательных неравенств.
- В чем заключается графический способ решения уравнений.
- Приведите пример функциональной зависимости показательной функции из реальной жизни.

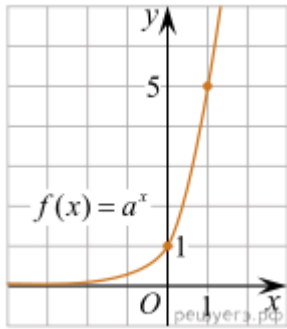
Контрольная работа**Обязательная часть**

При решении заданий 1-4 запишите правильный ответ из четырех предложенных.

1. (1 балл) При каком значении a функция $y=a^x$ бывает на всей области определения?

А) $a=\frac{4}{3}$; Б) $a=8,25$; В) $a=\frac{1}{8}$; Г) $a=\sqrt{3}$.

2. (1 балл) На рисунке изображён график функции вида $f(x)=a^x$. Найдите значение $f(2)$.



А) 25.; Б) 5; В) 32; Г) нет верного ответа.

3. (1 балл) Функция задана формулой: $f(x)=\left(\frac{1}{2}\right)^x$. Чему равно $f(-2)$?

А) $-\frac{1}{4}$; Б) -4; В) 4; Г) $\sqrt{2}$.

4. (1 балл) Корень уравнения $\left(\frac{1}{9}\right)^{x-13} = 3$. ?

А) 12,5; Б) 13; В) 14; Г) 15.

При выполнении заданий 5-8 запишите ход решения и полученный ответ.

5. (2 балла) Найдите корень уравнения $3^{x+2}-5 \cdot 3^x=12$

6. (2 балла) Сколько целых решений имеет неравенство $1 < 7^{x-1} \leq 49$?

7. (2 балла) Найдите точку максимума функции $y = 2^{5-8x-x^2}$.

8. (2 балла) В ходе распада радиоактивного изотопа его масса уменьшается по закону $m(t) = m_0 \cdot 2^{-t/T}$, где m_0 — начальная масса изотопа, t — время, прошедшее от начального момента, T — период полураспада. В начальный момент времени масса изотопа 184 мг. Период его полураспада составляет 7 мин. Найдите, через сколько минут масса изотопа будет равна 23 мг.

Дополнительная часть

При выполнении задания 9 запишите ход, обоснование решения и полученный ответ.

9. (3 балла) Решите графически систему уравнений:
$$\begin{cases} y - 2x = 0 \\ y - 2^x = 0 \end{cases}$$

Эталоны ответов:

| | | | | | | | | | |
|----------------------|----------|----------|----------|----------|----------|----------|----------|----------|----------|
| Номер задания | 1 | 2 | 3 | 4 | 5 | 6 | 7 | 8 | 9 |
| Ответ | В | А | В | А | 1 | 2 | -4 | 21 | (2; 4) |

4.1.10 Комплект оценочных заданий №10. Раздел 11. Логарифмы. Логарифмическая функция

Теоретические вопросы:

1. Сформулируйте определение логарифмической функции.
2. Перечислите свойства логарифмической функции.
3. Продолжите определение: «Логарифм – это...».
4. Чему равен логарифм произведения?
5. Чему равен логарифм частного?
6. Приведите примеры логарифмической спирали в природе и в окружающем мире.
7. На что стоит обратить внимание при решении логарифмических и уравнений и неравенств?
6. Перечислите способы решения логарифмических уравнений.
7. Сформулируйте правило решения простейших логарифмических неравенств.
8. В чем заключается графический способ решения уравнений.
6. Приведите пример функциональной зависимости логарифмической функции из реальной жизни.

Контрольная работа

Обязательная часть

При решении заданий 1-4 запишите правильный ответ из четырех предложенных.

1. (1 балл) Какая из функций возрастает на всей области определения?
А) $f(x)=\log_5 x$; Б) $f(x)=0,7^x$; В) $f(x)=x^2$; Г) $f(x)=\log_{\frac{1}{2}} x$.
2. (1 балл) Укажите область определения функции $f(x) = \lg \frac{2x-3}{x+7}$
А) $(-7; 1,5)$; Б) $(-\infty; -1,5), (7; +\infty)$; В) $(-1,5; 7)$; Г) $(-\infty; -7), (1,5; +\infty)$.
3. (1 балл) Расположить в порядке возрастания: $\log_{0,5} 4; \log_{0,5} 0,4; \log_{0,5} \frac{1}{4}$.
А) $\log_{0,5} 4; \log_{0,5} 0,4; \log_{0,5} \frac{1}{4}$; Б) $\log_{0,5} 4; \log_{0,5} \frac{1}{4}; \log_{0,5} 0,4$;
В) $\log_{0,5} \frac{1}{4}; \log_{0,5} 0,4; \log_{0,5} 4$; Г) $\log_{0,5} 0,4; \log_{0,5} \frac{1}{4}; \log_{0,5} 4$.
4. (1 балл) Найдите корень уравнения $\log_4(5-x) = 2$.
А) 11; Б) -11; В) -3; Г) 3.

При выполнении заданий 5-8 запишите ход решения и полученный ответ.

5. (2 балла) Определите значение выражения $\log_6 2 + \log_6 3 + 2^{\log_2 4}$.
6. (2 балла) Укажите наименьшее целое решение неравенства:
 $\log_3(6x - 4) > 2$.
7. (2 балла) Найдите точку максимума функции $y = 8 \ln(x + 7) - 8x + 3$.

8. (2 балла) Для обогрева помещения, температура в котором поддерживается на уровне $T_{\text{п}}=15^\circ$ через радиатор отопления пропускают горячую воду. Расход проходящей через трубу радиатора воды $m = 0,6$ кг/с. Проходя по трубе расстояние x , вода охлаждается от начальной температуры $T_{\text{в}}=91^\circ$ до температуры T , причём $x = \alpha \frac{cm}{\gamma} \log_2 \frac{T_{\text{в}} - T_{\text{п}}}{T - T_{\text{п}}}$, где $c = 4200 \frac{\text{Вт} \cdot \text{с}}{\text{кг} \cdot ^\circ\text{С}}$ — теплоёмкость воды, $\gamma = 28 \frac{\text{Вт}}{\text{м} \cdot ^\circ\text{С}}$ — коэффициент теплообмена, а $\alpha = 0,8$ — постоянная. Найдите, до какой температуры (в градусах Цельсия) охладится вода, если длина трубы радиатора равна 144 м.

Дополнительная часть

При выполнении задания 9 запишите ход, обоснование решения и полученный ответ.

9. (3 балла) Решите графически систему уравнений:
$$\begin{cases} y + 2x = \log_3 135 - \log_3 5 \\ 2y - 3x = 6 \end{cases}$$

Эталоны ответов:

| Номер задания | 1 | 2 | 3 | 4 | 5 | 6 | 7 | 8 | 9 |
|---------------|---|---|---|---|---|---|----|----|--------|
| Ответ | А | Г | А | Б | 5 | 3 | -6 | 34 | (0; 3) |

4.1.11 Комплект оценочных заданий №11. Раздел 12. Производная функции, ее применение

Теоретические вопросы:

1. Продолжите определение: «Последовательность – это...».
2. Приведите пример арифметической прогрессии.
3. Приведите пример геометрической прогрессии.
4. Приведите пример бесконечно убывающей геометрической прогрессии.
5. Продолжите определение: «Производная – это...».
6. Раскройте геометрический смысл производной.
7. Продолжите определение: «Касательная – это...».
8. Раскройте физический смысл производной.
9. Перечислите правила вычисления производных.
10. Чему равна производная степенной функции?
11. Чему равна производная произведения?
12. Чему равна производная частного?
13. Чему равна производная сложной функции?
14. Сформулируйте признак возрастания функции.
15. Сформулируйте признак убывания функции.
16. Сформулируйте признак точки максимума функции.
17. Сформулируйте признак точки минимума функции.
18. Составьте алгоритм решения задач на нахождения наибольшего и наименьшего значения функции на отрезке?
19. Составьте алгоритм исследования и построения графика функции с помощью производной.
20. Как найти вертикальную асимптоту графика функции?

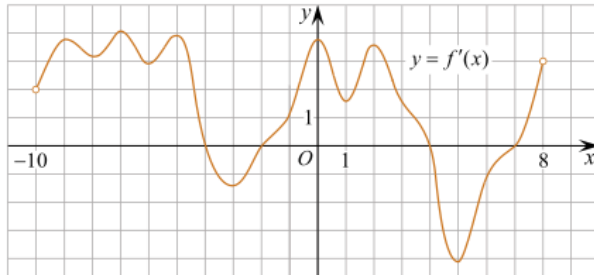
Контрольная работа

Обязательная часть

При решении заданий 1-4 запишите правильный ответ из четырех предложенных.

- (1 балл) Чему равна производная функции $y = \cos^2 x$?
 А) $y' = -\sin^2 x$; Б) $y' = -2 \sin^2 x$; В) $y' = -2 \cos x \sin x$; Г) $y' = 2 \cos x$.
- (1 балл) По какой из формул вычисляется производная произведения?
 А) $(u+v)' = u' + v'$; Б) $(uv)' = u'v + uv'$; В) $\left(\frac{u}{v}\right)' = \frac{u'v - uv'}{v^2}$; Г) $(f(g(x)))' = f'(g(x)) * g'(x)$.
- (1 балл) Решите уравнение $f'(x) = 0$, если $f(x) = 3x^2 - 6x + 4$. Выберите ответ.
 А) 1; Б) -1; В) 4; Г) -4.

4. (1 балл) На рисунке изображен график производной функции $f(x)$, определенной на интервале $(-10; 8)$. Найдите количество точек максимума функции $f(x)$ на отрезке $[-9; 6]$.

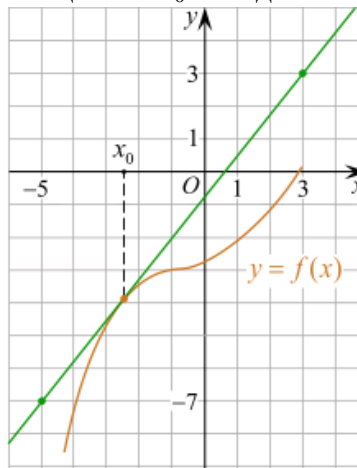


- А) 5; Б) 4; В) 2; Г) 3.

При выполнении заданий 5-8 запишите ход решения и полученный ответ.

5. (2 балла) Материальная точка движется прямолинейно по закону $x(t) = -t^4 + 6t^3 - 4t^2 + 5t - 5$ (где x — расстояние от точки отсчета в метрах, t — время в секундах, измеренное с начала движения). Найдите ее скорость (в м/с) в момент времени $t = 3$ с.

6. (2 балла) На рисунке изображён график функции $y = f(x)$ и касательная к нему в точке с абсциссой x_0 . Найдите значение производной функции $f(x)$ в точке x_0 .



- (2 балла) Решите неравенство: $\frac{(x-2)(x+3)}{(x-8)} > 0$
- (2 балла) Исследовать функцию $f(x) = x^3 - 3x$ и построить её график.

Дополнительная часть

При выполнении задания 9 запишите ход, обоснование решения и полученный ответ.

9. (3 балла) Для разгрузки судна в порту фирме готовы выделить участок земли площадью 100 м^2 . Предлагают четыре участка разных размеров: 25×4 ; 20×5 ; $12,5 \times 8$; 10×10 .

Какой участок экономичнее выбрать фирме, учитывая, что необходимо будет поставить забор по периметру?

Эталоны ответов:

| Номер задания | 1 | 2 | 3 | 4 | 5 | 6 | 7 | 8 | 9 |
|---------------|---|---|---|---|---|------|---------------------|---|-------|
| Ответ | В | Б | А | В | 8 | 1,25 | (-3; 2), (8; +∞) | - | 10x10 |

4.1.12 Комплект оценочных заданий №12. Раздел 13. Первообразная функции, ее применение

Теоретические вопросы:

1. Продолжите определение: «Функция $F(x)$ называется ...».
2. Раскройте геометрический смысл определенного интеграла.
3. Продолжите определение: «Криволинейная трапеция – это...».
4. Сформулируйте формулу Ньютона-Лейбница.
5. В чем заключается общий вид всех первообразных?
6. Перечислите правила вычисления интегралов.

Контрольная работа

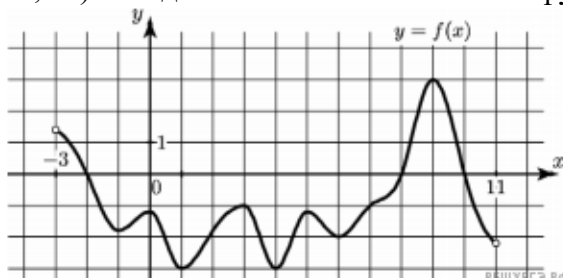
Обязательная часть

При решении заданий 1-4 запишите правильный ответ из четырех предложенных.

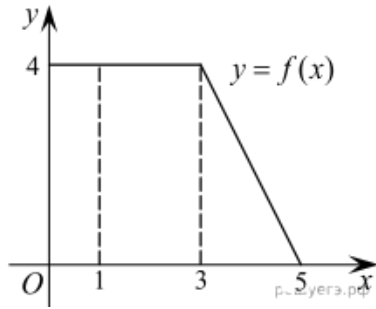
1. (1 балл) Для какой из функций функция $F(x)=x^3-3x^2+1$ является первообразной?
А) $f(x)=3(x^2-2)$; Б) $f(x)=3x(x^2-2)$; В) $f(x)=3x^2-6x+1$; Г) $f(x)=3x^2-6x$.
2. (1 балл) Дана функция $f(x)=3x^2+1$. Чему равна $F(1)$
А) 2; Б) 4; В) 6; Г) $1\frac{1}{3}$.
3. (1 балл) Общий вид всех первообразных для $f(x)=\sin x$?
А) $F(x)=\cos x+C$; Б) $F(x)=-\cos x+C$; В) $F(x)=\operatorname{tg} x+C$; Г) $F(x)=-\operatorname{tg} x+C$.
4. (1 балл) Вычислите определенный интеграл $\int_1^2 x dx$.
А) -1; Б) 1; В) -1,5; Г) 1,5.

При выполнении заданий 5-8 запишите ход решения и полученный ответ.

5. (2 балла) Является ли $F(x)=x^3-3x+1$ первообразной для функции $f(x)=3(x^2-1)$?
6. (2 балла) Задайте первообразную $F(x)$ для функции $f(x)=3x^2-2x$, если известны координаты точки М (1, 4) графика $F(x)$.
7. (2 балла) На рисунке изображен график функции $y=f(x)$, определённой на интервале $(-3; 11)$. Найдите наименьшее значение функции $f(x)$ на отрезке $[2; 9,5]$.



8. (2 балла) На рисунке изображен график некоторой функции $y=f(x)$. Пользуясь рисунком, вычислите определенный интеграл $\int_1^5 f(x) dx$.



Дополнительная часть

При выполнении задания 9 запишите ход, обоснование решения и полученный ответ.

9. (3 балла) Вычислите площадь заделки, периметр которой ограничивают линии $y=0$, $y=x$, $y=-2x+6$. Решите двумя способами. Сделайте чертеж.

Эталоны ответов:

| Номер задания | 1 | 2 | 3 | 4 | 5 | 6 | 7 | 8 | 9 |
|---------------|---|---|---|---|----|-------------|----|----|---|
| Ответ | Г | А | Б | Г | да | x^3-x^2+4 | -3 | 12 | 3 |

4.1.13 Комплект оценочных заданий №13. Раздел 14. Уравнения и неравенства

Теоретические вопросы:

1. Что называется уравнением?
2. Что значит решить уравнение?
3. Что такое корень уравнения?
4. Что называется неравенством?
5. Что значит решить неравенство?
6. В чем заключается «метод интервалов»?
7. Что называется решение системы уравнений?
8. Что значит решить систему уравнений?
9. При решении каких уравнений и неравенств, следует обратить внимание на область допустимых значений?
10. Перечислите способы решения уравнений.
11. Перечислите способы решения систем уравнений.

Контрольная работа

Обязательная часть

При решении заданий 1-4 запишите правильный ответ из четырех предложенных:

1. (1 балл) Какое из чисел является корнем уравнения $\log_2(x+1) = 1$
А) -1; Б) 2; В) 1; Г) 0.
2. (1 балл) Какие из уравнений имеют более одного корня?
А) $x^2-6x+5=0$; Б) $3^{x+2}=9$; В) $(x-4)(x+3)(x-8)=0$; Г) $2x-7=0$.
3. (1 балл) Определите вид уравнения $\sqrt{-32-x} = 2$.
А) линейное; Б) квадратное; В) иррациональное; Г) рациональное.
4. (1 балл) Определите наименьшее целое решение неравенства $5^{x+2} < 1$?
А) -3; Б) 0; В) 3; Г) -4.

При выполнении заданий 5-8 запишите ход решения и полученный ответ.

5. (2 балла) Найдите корень уравнения $|x-3|=2$

6. (2 балла) Решите систему уравнений
$$\begin{cases} x - y = 8, \\ 2^x - 3y = 16. \end{cases}$$

7. (2 балла) Решите неравенство
$$\frac{2x^2 - 5x}{x - 3} \leq x.$$

8. (2 балла) Решите уравнение $(2x - 3)\sqrt{3x^2 - 5x - 2} = 0$

Дополнительная часть

При выполнении задания 9 запишите ход, обоснование решения и полученный ответ.

9. (3 балла) Решите уравнение $2 \sin^2 x - \sqrt{3} \cos\left(\frac{\pi}{2} - x\right) = 0$. Укажите корни

этого уравнения, принадлежащие отрезку $\left[\frac{3\pi}{2}; 3\pi\right]$.

Эталоны ответов:

| Номер задания | 1 | 2 | 3 | 4 | 5 | 6 | 7 | 8 | 9 |
|---------------|---|------|---|---|------|---------|----------------------------|-------|---|
| Ответ | В | А, В | В | А | 1; 5 | (10; 2) | $(-\infty; 0] \cup [2; 3)$ | -1; 6 | $2\pi, \frac{7\pi}{3}, \frac{8\pi}{3}, 3\pi.$ |

4.1.14 Комплект оценочных заданий №14. Рубежный контроль (по итогам разделов 1-7)

Обязательная часть

При решении заданий 1-4 запишите правильный ответ из четырех предложенных.

1. (1 балл) Даны точки А(2,0,5), В(-2,6,3). Какие координаты имеет середина отрезка АВ – точка М?

А) М(0, 3, 4); Б) М(2, 3, 4); В) М(0,- 3, 4); Г) М(0, 3,- 4).

2. (1 балл) Прямые АВ и СД параллельные. Какое расположение имеют прямые АС и ВД?

А) параллельные; Б) перпендикулярные; В) скрещиваются; Г) пересекаются.

3. (1 балл) Комплексно-сопряжённым для числа $7-2i$ является число:

А) $7+2i$; Б) $-2+7i$; В) $-7+2i$; Г) $7-2i$.

4. (1 балл) Из 10 обучающихся нужно составить группу из 4-х для участия в мероприятии. Сколькими способами это можно сделать?

А) 20; Б) 120; В) 210; Г) 40.

При выполнении заданий 5-8 запишите ход решения и полученный ответ.

5. (2 балла) Верхние концы двух вертикально стоящих столбов, удалённых на расстояние 4 м, соединены перекладиной. Высота одного столба 10 м, а другого 7 м. Найдите

длину перекладины.

6. (2 балла) Даны четыре точки: $A(0,1,1)$, $B(1,-1,3)$, $C(3,1,0)$ $D(3,2,2)$ Докажите, что отрезки АВ и СД перпендикулярны.

7. (2 балла) Найдите произведение комплексных чисел $(3-2i)(2+5i)$.

8. (2 балла) Сколькими способами из 9 учебных предметов можно составить расписание учебного дня из 4 различных пар занятий?

Дополнительная часть

При выполнении задания 9 запишите ход, обоснование решения и полученный ответ.

9. (3 балла) Теплоход проходит по течению реки до пункта назначения 255 км и после стоянки возвращается в пункт отправления. Найдите скорость теплохода в неподвижной воде, если скорость течения равна 1 км/ч, стоянка длится 2 часа, а в пункт отправления теплоход возвращается через 34 часа после отплытия из него. Ответ дайте в км/ч.

Эталоны ответов:

| Номер задания | 1 | 2 | 3 | 4 | 5 | 6 | 7 | 8 | 9 |
|---------------|---|---|---|---|---|---|----|---|---|
| Ответ | А | Г | Г | Б | 5 | - | 60 | 8 | - |

4.2. Задания для промежуточной аттестации

П Е Р Е Ч Е Н Ь

практических заданий для подготовки к ЭКЗАМЕНУ
по учебному предмету ПУП. 01 МАТЕМАТИКА
для обучающихся по специальности 26.02.03 СУДОВОЖДЕНИЕ

На выполнение письменной экзаменационной работы по математике дается 4 астрономических часа (240 минут).

Экзаменационная работа состоит их 2-х частей: обязательной и дополнительной.

Обязательная часть содержит задания минимального обязательного уровня, дополнительная часть – более сложные задания.

При выполнении заданий обязательной части требуется представить ход решения и указать полученный ответ. За правильное выполнение любого задания из обязательной части обучающийся получает один балл. При выполнении задания из дополнительной части необходимо подробно описать ход решения и дать ответ. Правильное выполнение заданий дополнительной части оценивается 3 баллами или 1-2 баллами за частичное решение.

Баллы, полученные за все выполненные задания, суммируются.

Шкала перевода баллов в отметки по пятибалльной системе

| Отметка | Число баллов, необходимое для получения отметки |
|---------------|---|
| «3» (удов.) | 6-9 |
| «4» (хорошо) | 10-14 (не менее одного задания из дополнительной части) |
| «5» (отлично) | более 14 |

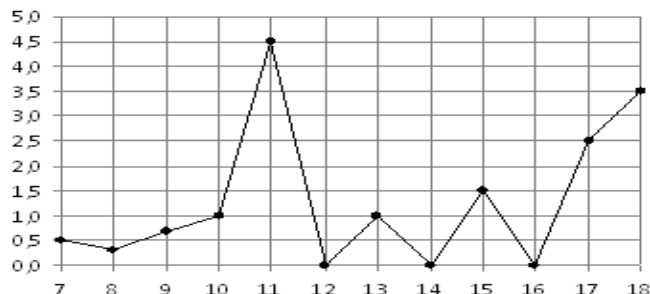
(не менее двух заданий
из дополнительной части)

Обязательная часть

При выполнении заданий 1-12 запишите ход решения и полученный ответ.

1. (1 балл) Вычислите: $2\sin(\pi/6)+2\cos(\pi/3)$

2. (1 балл) На рисунке жирными точками показано суточное количество осадков, выпадавших в Элисте с 7 по 18 декабря 2001 года. По горизонтали указываются числа месяца, по вертикали — количество осадков, выпавших в соответствующий день, в миллиметрах. Для наглядности жирные точки на рисунке соединены линией. Определите по рисунку, сколько дней выпадало более 2 миллиметров осадков?



3. (1 балл) Мобильный телефон стоил 16000 рублей. Через некоторое время цену на эту модель снизили до 15200 рублей. На сколько процентов была снижена цена?

4. (1 балл) На тарелке 16 пирожков: 7 с рыбой, 5 с вареньем и 4 с вишней. Юля наугад выбирает один пирожок. Найдите вероятность того, что он окажется с вишней.

5. (1 балл) Найдите значение выражения $\log_2 2 + \log_2 32$

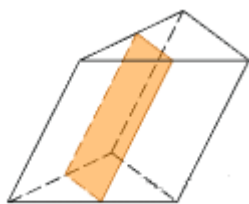
6. (1 балл) Найдите корень уравнения $\sqrt{7-6x} = 7$.

7. (1 балл) Решите неравенство $2^{x+5} > 64$. В ответ запишите наименьшее положительное число.

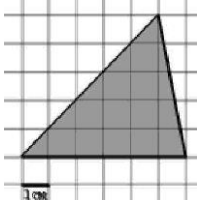
8. (1 балл) Найдите корень уравнения $\frac{x+2}{3x-2} = \frac{1}{4}$

9. (1 балл) Найдите производную функции в точке $x=0$: $y = \frac{5}{4}x^4 - 6x^2 + 7x - 1$

10. (1 балл) Через среднюю линию основания треугольной призмы проведена плоскость, параллельная боковому ребру. Найдите объем этой призмы, если объем отсеченной треугольной призмы равен 6.



11. (1 балл) Найдите площадь фигуры, изображенной на рисунке



12. (1 балл) Тело движется по закону $S(t)=3t^2+5t$ (м) Найдите скорость тела через 1с после начала движения.

Дополнительная часть

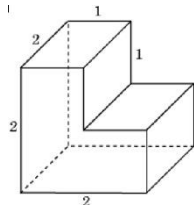
При выполнении заданий 13-16 запишите ход решения и полученный ответ

13. (3 балла) Вычислите площадь земли, отведенной под склад, периметр которого

ограничивают линии $y=x^2-2x-2$ и $y=-x^2+2$. Выполните чертеж. Ответ дайте в квадратных метрах.

14. (3 балла) Решите уравнение $\sin^2 x - 2\sin x = 0$. В ответ запишите количество решений, принадлежащих промежутку $[0; 4\pi]$.

15. (3 балла) Найдите объем многогранника, изображенного на рисунке (все двугранные углы прямые).



16. (3 балла) Одна труба может наполнить бассейн за четыре часа. Вторая - за шесть часов. За какое время заполнится бассейн, если обе трубы включить одновременно?

Эталоны ответов:

| Номер задания | 1 | 2 | 3 | 4 | 5 | 6 | 7 | 8 | 9 | 10 | 11 | 12 | 13 | 14 | 15 | 16 |
|---------------|---|---|---|------|---|----|---|-----|---|-------|----|----|----|----|----|----|
| Ответ | 2 | 3 | 5 | 0,25 | 6 | -7 | 1 | -10 | 7 | 35000 | 15 | 11 | 9 | 5 | 6 | 13 |

ПРИМЕРНЫЙ ПЕРЕЧЕНЬ ОЦЕНОЧНЫХ СРЕДСТВ

| № п/п | Наименование оценочного средства | Краткая характеристика оценочного средства | Представление оценочного средства в ФОС |
|-------|--|---|---|
| 1 | 2 | 3 | 4 |
| 1 | Деловая и/или ролевая игра | Совместная деятельность группы обучающихся и преподавателя под управлением преподавателя с целью решения учебных и профессионально-ориентированных задач путём игрового моделирования реальной проблемной ситуации. Позволяет оценивать умение анализировать и решать типичные профессиональные задачи. | Описание темы (проблемы), концепции, роли и ожидаемого результата игры |
| 2 | Задания для самостоятельной работы | Планируемая работа обучающихся для решения задач или заданий по модулю или дисциплине в целом, выполняемая под руководством преподавателя, но без его непосредственного участия. | Комплект заданий |
| 3 | Зачёт | Средство контроля усвоения учебного материала темы, раздела или разделов дисциплины, организованное как учебное занятие в виде собеседования преподавателя с обучающимися. | Вопросы по темам/разделам дисциплины |
| 4 | Кейс-задания | Проблемное задание, в котором обучающемуся предлагают осмыслить реальную профессионально-ориентированную ситуацию, необходимую для решения данной проблемы. | Комплект кейс-заданий |
| 5 | Контрольная работа | Средство проверки умений применять полученные знания для решения задач определённого типа по теме или разделу. | Комплект контрольных заданий по вариантам |
| 6 | Круглый стол, дискуссия, полемика, диспут, дебаты | Оценочные средства, позволяющие включить обучающихся в процесс обсуждения спорного вопроса, проблемы и оценить их умение аргументировать собственную точку зрения. | Перечень дискуссионных тем для проведения круглого стола, дискуссии, полемики, диспута, дебатов |
| 7 | Портфолио | Целевая подборка работ обучающегося, раскрывающая его индивидуальные образовательные достижения в одной или нескольких учебных дисциплинах. | Структура портфолио |
| 8 | Программы компьютерного тестирования Электронный практикум Виртуальные ла- | Средства, позволяющие оперативно получить объективную информацию об усвоении обучающимися контролируемого материала, возможность детально и персонализировано представить эту информацию. | Перечень компьютерных тестов, электронных практикумов, виртуальных лабораторных ра- |

| | лабораторные работы | | бот |
|----|---------------------------------|---|--|
| 9 | Проект | Конечный продукт, получаемый в результате планирования и выполнения комплекса учебных и исследовательских заданий. Позволяет оценить умения обучающихся самостоятельно конструировать свои знания в процессе решения практических задач и проблем, ориентироваться в информационном пространстве и оценить уровень сформированности аналитических, исследовательских навыков, навыков практического и творческого мышления. Может выполняться в индивидуальном порядке или группой обучающихся. | Темы групповых и/или индивидуальных проектов |
| 10 | Рабочая тетрадь | Дидактический комплекс, предназначенный для самостоятельной работы обучающегося и позволяющий оценивать уровень усвоения им учебного материала. | Образец рабочей тетради |
| 11 | Разноуровневые задачи и задания | Различают задачи и задания: а) ознакомительного, позволяющие оценивать и диагностировать знание фактического материала (базовые понятия, алгоритмы, факты) и умение правильно использовать специальные термины и понятия, узнавание объектов изучения в рамках определённого раздела дисциплины; б) репродуктивного уровня, позволяющие оценивать и диагностировать умения синтезировать, анализировать, обобщать фактический и теоретический материал с формулированием конкретных выводов, установлением причинно-следственных связей; в) продуктивного уровня, позволяющие оценивать и диагностировать умения, интегрировать знания различных областей, аргументировать собственную точку зрения, выполнять проблемные задания. | Комплект разноуровневых задач и заданий |
| 12 | Реферат | Продукт самостоятельной работы обучающегося, представляющий собой краткое изложение в письменном виде полученных результатов теоретического анализа определённой научной (учебно-исследовательской) темы, где автор раскрывает суть исследуемой проблемы, приводит различные точки зрения, а также собственные взгляды на неё. | Темы рефератов |
| 13 | Сообщение/Доклад | Продукт самостоятельной работы обучающегося, представляющий собой публичное выступление по представлению полученных результатов решения определённой учебно-практической, учебно-исследовательской или научной темы. | Темы докладов, сообщений |
| 14 | Собеседование | Средство контроля, организованное как специ- | Вопросы по те- |

| | | | |
|----|--------------------|---|--|
| | | альная беседа преподавателя с обучающимся на темы, связанные с изучаемой дисциплиной, и рассчитанное на выяснение объёма знаний обучающегося по определённому разделу, теме, проблеме и т.п. | мам/разделам УД, ПМ |
| 15 | Типовое задание | Стандартные задания, позволяющие проверить умение решать как учебные, так и профессиональные задачи. Содержание заданий должно максимально соответствовать видам профессиональной деятельности. | Комплект типовых заданий |
| 16 | Творческое задание | Частично регламентированное задание, имеющее нестандартное решение и позволяющее диагностировать умения, интегрировать знания различных областей, аргументировать собственную точку зрения. Может выполняться индивидуально или группой обучающихся. | Темы групповых и/или индивидуальных творческих заданий |
| 17 | Тест | Система стандартизированных заданий, позволяющая автоматизировать процедуру измерения уровня знаний и умений обучающегося. | Комплект тестовых заданий |
| 18 | Тренажёр | Техническое средство, которое может быть использовано для контроля приобретённых обучающимся профессиональных навыков и умений по управлению конкретным материальным объектом. | Комплект заданий для работы на тренажёре |
| 19 | Эссе | Средство, позволяющее оценить умение обучающегося письменно излагать суть поставленной проблемы, самостоятельно проводить анализ этой проблемы с использованием концепций и аналитического инструментария соответствующей дисциплины, делать выводы, обобщающие авторскую позицию по поставленной проблеме. | Тематика эссе |

ОСНОВНЫЕ ТРЕБОВАНИЯ К ОФОРМЛЕНИЮ БАНКА ТЕСТОВЫХ ЗАДАНИЙ

1. Банк тестовых заданий (далее – БТЗ) должен быть представлен в виде текстового документа (Microsoft Word).

2. Все тестовые задания должны быть разделены по контролируемым разделам.

3. Последовательность тестовых заданий в БТЗ оформляется двойной нумерацией (N.K.),

где:

N – номер контролируемого раздела в соответствии со спецификацией БТЗ,

K – порядковый номер вопроса в данном разделе.

4. Желательно, чтобы Банк тестовых заданий содержал Тестовые задания различных форм.

Классификация форм тестовых заданий построена по признаку действий, выполняемых обучающимися в процессе формирования ответов на тестовые задания. Выделяют четыре формы тестовых заданий:

- открытая;
- закрытая;
- на установление соответствия;
- на установление правильной последовательности.

Задание открытой формы требует ответа сформулированного самим обучающимся. Оно имеет вид неполного утверждения, в котором отсутствует один элемент. Как правило, обучающийся подставляет число или слово (возможно словосочетание, состоящее не более чем из двух слов). Требование к данному тесту – чёткая формулировка задания, требующая однозначного ответа.

На месте отсутствующего элемента, необходимо поставить прочерк или многоточие.

| ДО ВВОДА ОТВЕТА | ПОСЛЕ ВВОДА ОТВЕТА |
|--|---|
| Россия подписала мир с Францией в Тильзите в ___ году. | Россия подписала мир с Францией в Тильзите в <u>1807</u> году. |
| London is one ___ the largest cities ___ the world. | London is one <u>of</u> the largest cities <u>in</u> the world. |

Отсутствующий элемент может быть «нулевым» (пустым), например:

| ДО ВВОДА ЗАКЛЮЧЕНИЯ | ПОСЛЕ ВВОДА ЗАКЛЮЧЕНИЯ |
|--|--|
| She left ___ her watch at home. | She left her watch at home. |
| Seven million ___ inhabitants ___ London have five million ___ cars. | Seven million inhabitants <i>of</i> London have five million cars. |

Задание закрытой формы требует выбора обучающимся одного или нескольких ответов из множества предложенных. Оно представляет собой неполное утверждение из множества элементов с одним (или несколькими) отсутствующим элементом, который является правильным ответом. Обучающийся определяет правильный ответ из данного множества. Чтобы уменьшить угадывание, количество неверных ответов должно превышать количество верных. Количество правильных ответов может быть различным, напри-

мер:

а) выбор только одного ответа из множества предложенных

| ДО ВВОДА ОТВЕТА | ПОСЛЕ ВВОДА ОТВЕТА |
|---|--|
| I ... in my office now. <input type="radio"/> is <input type="radio"/> are <input type="radio"/> am <input type="radio"/> was <input type="radio"/> were | I ... in my office now. <input type="radio"/> is <input type="radio"/> are <input checked="" type="radio"/> am <input type="radio"/> was <input type="radio"/> were |

б) выбор одновременно несколько ответов из множества предложенных

| ДО ВВОДА ОТВЕТА | ПОСЛЕ ВВОДА ОТВЕТА |
|--|--|
| Слова с окончанием <i>-e</i> в предложном падеже <input type="checkbox"/> в музе_ <input type="checkbox"/> в безмолви_ <input type="checkbox"/> в платье_ <input type="checkbox"/> на свирел_ <input type="checkbox"/> об Анастаси_ | Слова с окончанием <i>-e</i> в предложном падеже <input checked="" type="checkbox"/> в музе_ <input type="checkbox"/> в безмолви_ <input checked="" type="checkbox"/> в платье_ <input type="checkbox"/> на свирел_ <input type="checkbox"/> об Анастаси_ |

Задание на установление соответствия должно состоять из двух групп элементов и четкой формулировки критерия выбора соответствия. Обучающийся должен связать каждый элемент первой группы с одним или несколькими элементами из второй группы. Внутри каждой группы элементы должны быть однородными. Рекомендуется дополнить вторую группу несколькими однотипными элементами, не связанными с первой группой. Количество элементов во второй группе должно превышать количество элементов первой группы, но не более чем в два раза. Максимально допустимое количество элементов во второй группе не должно превышать 10. Количество элементов в первой группе должно быть не менее двух.

| ДО ВВОДА ЗАКЛЮЧЕНИЯ | |
|------------------------|---|
| ① Ассимиляция | <input type="radio"/> синтез органических веществ |
| ② Диссимиляция | <input type="radio"/> энергетический обмен |
| | <input type="radio"/> распад органических веществ |
| ПОСЛЕ ВВОДА ЗАКЛЮЧЕНИЯ | |
| ① Ассимиляция | ① синтез органических веществ |
| ② Диссимиляция | <input type="radio"/> энергетический обмен |
| | ② распад органических веществ |

Задание на установление правильной последовательности требует установить правильную последовательность множества предложенных объектов (слов, словосочетаний, предложений, формул, рисунков и т.д.). Задание должно состоять из однородных элементов некоторой группы и четкой формулировки критерия упорядочения этих элементов.

| ДО ВВОДА ОТВЕТА |
|--|
| Порядок следования дней в неделе: <input type="radio"/> среда → <input type="radio"/> четверг → <input type="radio"/> понедельник → <input type="radio"/> пятница → <input type="radio"/> вторник |
| ПОСЛЕ ВВОДА ОТВЕТА |
| Порядок следования дней в неделе: ① понедельник → ② вторник → ③ среда → ④ четверг → ⑤ пятница |

Банк тестовых заданий

Спецификация Банка тестовых заданий

ПРИМЕР:

1. Атомная и ядерная физика
 - 1.1 Физика атомного ядра
 - 1.2 Физика атомов и молекул
2. Квантовая физика
 - 2.1 Волновые свойства вещества
 - 2.2 Квантовые свойства излучения
3. Колебания и волны
4. Механика
 - 4.1 Динамика
 - 4.2 Кинематика
 - 4.3 Основные понятия
5. Молекулярная физика и термодинамика
 - 5.1 Газовые законы
 - 5.2 Гидростатика и гидродинамика
 - 5.3 Молекулярно-кинетическая теория
 - 5.4 Термодинамика
6. Оптика
 - 5.5 Волновая оптика
 - 5.6 Геометрическая оптика
7. Физика твёрдого тела
8. Электричество и магнетизм
 - 8.1 Магнитное поле
 - 8.2 Переменный ток
 - 8.3 Постоянный ток
 - 8.4 Ток в средах
 - 8.5 Электромагнитное поле
 - 8.6 Электростатика

Содержание Банка тестовых заданий

ПРИМЕР:

1. Атомная и ядерная физика
 - 1.1 Физика атомного ядра

Задание № 1.1.1 (отметьте правильный ответ)

Атомное ядро может иметь заряд ...

 - отрицательный
 - не иметь заряда
 - менять заряд с положительного на отрицательный
 - положительный

Задание № 1.1.2 (отметьте правильный ответ)

Ядро изотопа радия с массовым числом 226 и зарядовым 88 состоит из...

- 226 протонов и 88 нейтронов

- 88 протонов и 138 нейтронов
 88 электронов и 138 протонов
 138 протонов и 88 нейтронов

Задание № 1.1.3 (отметьте правильный ответ)

Ядро, состоящее из одного протона - это ядро атома...

- водорода
 гелия
 неона
 ксенона

1.2 Физика атомов и молекул

Задание № 1.2.1 (отметьте правильный ответ)

Модель атома Бора – электроны могут двигаться в атоме ...

- только по определённой орбите
 только по внешней орбите
 только по внутренней орбите
 не могут двигаться

Таблица форм тестовых заданий

| Всего ТЗ | Из них количество ТЗ в форме | | | | | | | |
|----------|------------------------------|-----|----------|-----|-----------------|-----|------------|----|
| | закрытых | | открытых | | на соответствие | | на порядок | |
| | шт. | % | шт. | % | шт. | % | шт. | % |
| 100 | 75 | 75% | 15 | 15% | 12 | 12% | 8 | 8% |

Таблица ответов к тестовым заданиям

| Номер ТЗ | Номер правильного ответа (правильная последовательность, правильное соответствие) | Номер ТЗ | Номер правильного ответа (правильная последовательность, правильное соответствие) |
|----------|---|----------|---|
| | | | |
| | | | |
| | | | |
| | | | |
| | | | |
| | | | |
| | | | |
| | | | |
| | | | |
| | | | |

Критерии оценки выполненного тестового задания

Результат аттестационного педагогического измерения по учебному предмету (Разделу, Теме) ПУП. 01 МАТЕМАТИКА для каждого обучающегося представляет собой сумму зачтённых тестовых заданий по всему тесту. Зачтённое тестовое задание соответствует одному баллу.

Критерием освоения учебного предмета (Раздела, Темы) ПУП. 01 МАТЕМАТИКА для обучающегося являются правильно выполненные задания теста в количестве не менее 70 %.

Для оценки результатов тестирования предусмотрена следующая система оценивания образовательных достижений обучающихся:

- за каждый правильный ответ ставится 1 балл;
- за неправильный ответ – 0 баллов.

Тестовые оценки можно соотнести с общепринятой пятибалльной системой. Оценивание осуществляется по следующей схеме:

| Процент результативности (правильных ответов) | | Качественная оценка индивидуальных образовательных достижений | |
|--|-------|--|---------------------|
| % | Баллы | балл (отметка) | вербальный аналог |
| 90 ÷ 100 | | 5 | отлично |
| 80 ÷ 89 | | 4 | хорошо |
| 70 ÷ 79 | | 3 | удовлетворительно |
| менее 70 | | 2 | неудовлетворительно |